

**Soalan Pendidikan Muzik Tahun 5**  
**SK Taman Tasik**

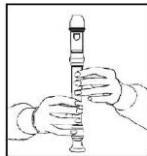
Nama : .....

Kelas : .....

**Bahagian A**

**Jawab Semua Soalan. Bulatkan jawapan yang betul**

1. Apakah nama lagu kebangsaan Negara Malaysia?
  - a. Tanah Tumpah Darahku
  - b. Sultan Kurniakan
  - c. Selamat Bertakhta
  - d. Negaraku
  
2. Berikut merupakan not yang tidak terdapat dalam muzik?
  - a. Semibrif
  - b. Krocet
  - c. Masalam
  - d. Minim
  
3. Apakah nama alatan muzik yang mengeluarkan bunyi tik-tok?
  - a. Tamborine
  - b. Kayu Tik Tok
  - c. Kastenet
  - d. Rekoder



4. Apakah nama alatan muzik dalam gambarajah di atas?
  - a. Kastenet
  - b. Rekoder
  - c. Drum
  - d. Tik-Tok
  
5. Bahagian manakah yang digunakan untuk membunyikan rekoder?
  - a. Mulut
  - b. Tangan
  - c. Jari
  - d. Hidung
  
6. Berapakah nilai bagi not semibrif?
  - a. 1
  - b. 2
  - c. 3
  - d. 4
  
7. Bagaimanakah cara untuk membunyikan tamborin?
  - a. Ketuk dan goncang
  - b. Tiup
  - c. Baling
  - d. Ketuk dan tangkap

8. Apakah alatan yang dimainkan dengan menggesekkannya?

- a. Gitar
- b. Drum
- c. Piano
- d. Viola

9. Berapakah nilai bagi not krocet?

- a.  $\frac{1}{2}$
- b. 1
- c. 3
- d. 4

10. Nyatakan turutan yang betul bagi pernyataan di bawah

- a. Do, Re, Mi, Fa, So, La, Ti, Do
- b. Do, Re, So, La, Do
- c. So, Fa,Lo, Me, Re, do
- d. Do, Ti, La, So, Fa, Me, Re, Do

11. Soalan 11 dan 12 berdasarkan gambarajah di bawah



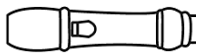
Namakan alatan muzik di atas?

- a. Kastenet
- b. Rekoder
- c. Drum
- d. Tik-Tok

12. Nyatakan bunyi yang dikeluarkan oleh alatan muzik di atas?

- a. Tik-Tok
- b. Cing-Cing
- c. Tom-Tom
- d. Dam-Dam

13. Soalan 13 berdasarkan gambar di bawah



Apakah nama bahagian rekoder di atas?

- a. Kepala
- b. Leher
- c. Badan
- d. Ekor

14. Apakah alatan yang dimainkan dengan menggunakan mulut?

- a. Viola
- b. Rekoder
- c. Gitar
- d. Piano

15. Apakah not yang mempunyai nilai sebanyak 4?
- Semibrif
  - Krocet
  - Minim
  - Kuaver
16. Apakah nilai bagi not kuaver?
- 3
  - 4
  - $\frac{1}{2}$
  - 2
17. Apabila hendak memulakan nyayian apakah perkara yang perlu dilakukan oleh seseorang penyayi itu?
- Hembus nafas
  - Tarik nafas
  - Buang nafas
  - Tahan nafas
18. Yang manakah antara berikut bukan alat tradisional?
- Gitar
  - Gong
  - Rebana Ubi
  - Seruling
19. Soalan 19 dan 20 berdasarkan gambar di bawah





Apakah nama alatan muzik di atas

- Viola
  - Gitar
  - Gambus
  - drum
20. Bagaimanakah caranya hendak memainkan alatan muzik di atas
- Gesek
  - Petik
  - Tiup
  - Sedut

**(20 MARKAH)**

**Bahagian B**

1. Tandakan (/) bagi alat muzik moden



(5 MARKAH)

2. Isikan tempat kosong dengan perkataan yang betul

Negaraku \_\_\_\_\_(a) darahku,  
Rakyat hidup \_\_\_\_\_(b)  
\_\_\_\_\_(c) bahagia  
Tuhan \_\_\_\_\_(d)  
Raja kita \_\_\_\_\_(e)

(5 MARKAH)

Sekolah Taman Tasik \_\_\_\_\_(a)  
\_\_\_\_\_(b) yang kita banggakan  
\_\_\_\_\_(c)  
Itu ikrar kita  
\_\_\_\_\_(d)  
maju dan terus Berjaya  
berganding tangan bersama  
\_\_\_\_\_(e)

(5 MARKAH)

3. Suaikan nama alatan di bawah

Gitar

Biola

Trompet

Gambus

Kompang



( 5 MARKAH)

4. Isikan nilai dan lukiskan tanda not di bawah

Nama Tanda Not	Simbol Tanda Not	Nilai tanda Not
Klef treble		
Kuaver		
Krocet		
Minim		
Semibrif		

( 10 MARKAH)

Disediakan oleh  
( )  
Guru Muzik Tahun 5

Disemak oleh  
( )  
Pn. Nik Aznorida Bt Abdullah  
Ketua Panatia Pendidikan Muzik  
SK Taman Tasik

Disahkan oleh  
( )  
Pn. Hjh Zuraida Bt Hj Ariffin  
Penolong Kanan Kurikulum  
SK Taman Tasik