

**SULIT**

**PEPERIKSAAN UJIAN AKHIR TAHUN/**

**MUZIK TAHUN 5**

**Oktober**

**1 jam**

**Satu Jam**

---

---

## **PENDIDIKAN MUZIK**

---

***JANGAN BUKA KERTAS SOALAN INI SEHINGGA DIBERITAHU***

**ARAHAN : JAWAB SEMUA SOALAN**

**NAMA MURID** : \_\_\_\_\_

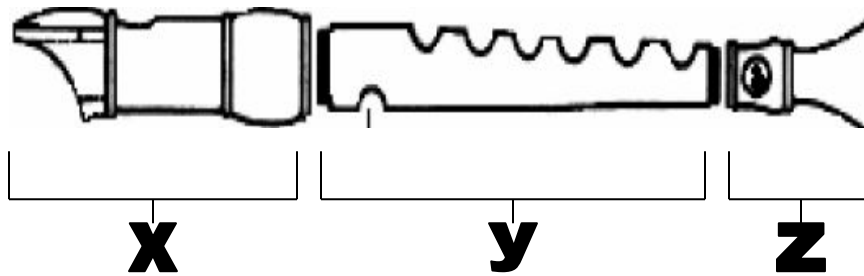
**KELAS** : \_\_\_\_\_

**JAWAB SEMUA SOALAN**

1. Alat muzik yang dimainkan dengan cara **ditiup** ialah :

- A. Kibod
- B. Drum
- C. Recoder
- D. Gitar

BAHAGIAN-BAHAGIAN REKODER



2. Bahagian X ialah:

- A: tengah
- B: kepala
- C: kaki
- D: belakang

3. Bahagian Y ialah:

- A: badan
- B: hujung
- C: kaki
- D: hulu

4. Bahagian Z ialah:

- A: jari
- B: ekor
- C: kaki
- D: belakang

5. Bunyi tiupan rekoder yang paling tepat ialah:

A: hu

C: tu

B: cu

D: mu

6. Semasa menyanyikan lagu di perhimpunan rasmi, murid-murid hendaklah \_\_\_\_\_.

A: berdiri tegak

C: berdiri

B: bising

D: berdiri tegak dan tangan disisi

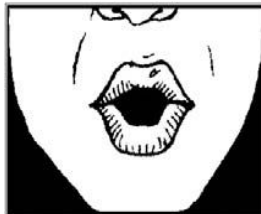
7. Berikut ialah lagu-lagu patriotik **kecuali**,

A: Satu Malaysia

C: Puteri Santubong

B: Keranamu Malaysia

D: Jalur Gemilang



8. Pembentukan mulut bagi gambarajah diatas ialah:


A: Ah

C: Eh

B: Oh

D: E`h

Pilih jawapan berikut untuk soalan 9 hingga 16 merujuk pada gambarajah di bawah.



9. Apakah tanda nama yang bernombor 1 ?

- A. Klef bas
- B. Klef treble
- C. Tanda syap
- D. Tanda flet

10. Apakah tanda nama yang bernombor 2 ?

- A. Bar
- B. Baluk
- C. Garis bar
- D. Garis baluk

11. Apakah tanda nama yang bernombor 3 ?

- A. Nombor
- B. Tanda masa
- C. Not
- D. Tanda Mata


12. Apakah tanda nama yang bernombor 4 ?

- A. Bar
- B. Garis bar berkembar
- C. Garis bar
- D. Garis baluk

13. Apakah tanda nama yang bernombor 5 ?
- A. Bar
  - B. Garis bar berkembar
  - C. Garis bar
  - D. Garis baluk

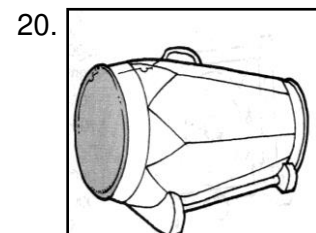

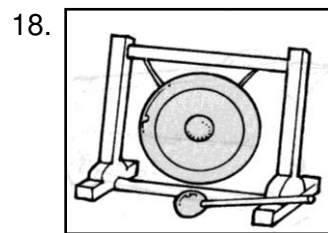
Lukiskan bentuk not-not dan rehat not berikut :

14. Rehat krocet	
15. Krocet	
16. Minim	



17. Nama bagi not pada gambarajah di atas ialah :
- A. Minim bertitik
  - B. Krocet bertitik
  - C. Kuaver bertitik
  - D. Semikuaver bertitik

**Namakan alatan muzik di bawah dalam tempat kosong yang disediakan.**



\_\_\_\_\_

\_\_\_\_\_

\_\_\_\_\_

Lengkapkan lirik lagu “**NEGARAKU**” pada ruangan di bawah.

(20 markah)

Negaraku,

Tanah \_\_\_\_\_ (1) \_\_\_\_\_ (2),

\_\_\_\_\_ (3) \_\_\_\_\_ (4)

\_\_\_\_\_ (5) dan \_\_\_\_\_ (6),

\_\_\_\_\_ (7) \_\_\_\_\_ (8)

\_\_\_\_\_ (9) \_\_\_\_\_ (10)

\_\_\_\_\_ (11) \_\_\_\_\_ (12)

Selamat \_\_\_\_\_ (13)

Rahmat \_\_\_\_\_ (14)

\_\_\_\_\_ (15) \_\_\_\_\_ (16)

\_\_\_\_\_ (17) \_\_\_\_\_ (18)

\_\_\_\_\_ (19) \_\_\_\_\_ (20)