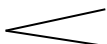



**Jawab semua soalan**

1. **Kelajuan** detik dalam muzik ialah \_\_\_\_\_  
A. Tempo  
B. Pic  
C. Ton  
D. Dinamik
  
2. \_\_\_\_\_ bermaksud **kekuatan bunyi** dalam muzik.  
A. Tempo  
B. Dinamik  
C. Ton  
D. Pic
  
3. **Dinamik**  bermaksud bunyi semakin \_\_\_\_\_  
A. Beransur sederhana  
B. Beransur kuat  
C. Beransur kuat  
D. Beransur lambat
  
4. **Meter** dalam muzik menunjukkan bilangan \_\_\_\_\_ dalam setiap bar.  
A. Melodi  
B. Tempo  
C. Pic  
D. Detik
  
5. **Tempoh** dalam muzik bermaksud \_\_\_\_\_  
A. Kelajuan  
B. Tekanan  
C. Keberatan  
D. Kelembutan
  
6. Istilah muzik '**piano**' (**p**) membawa maksud \_\_\_\_\_  
A. Cepat  
B. Lembut  
C. Kuat  
D. Lambat
  
7. Istilah muzik '**forte**' (**f**) membawa maksud \_\_\_\_\_  
A. Cepat  
B. Lembut  
C. Kuat  
D. Lambat
  
8. Berikut adalah alat muzik Caklempong, **kecuai** \_\_\_\_\_  
A. Tingkah  
B. Sauwa  
C. Gereteh  
D. Piano
  
9. Lirik lagu Dondang Sayang ialah \_\_\_\_\_ yang dinyanyikan.  
A. Sajak  
B. Syair  
C. Pantun  
D. Teka-teki

10. Dondang Sayang dipengaruhi oleh masyarakat berikut, **kecuali** \_\_\_\_\_
- A. Melayu
  - B. Kadazan Dusun
  - C. Baba dan Nyonya
  - D. Cina peranakan

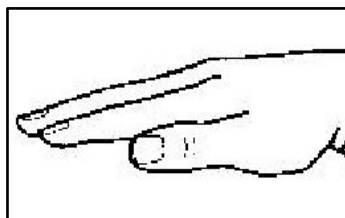
11. Berikut adalah alat muzik Dondang Sayang, **kecuali** \_\_\_\_\_
- A. Akordian
  - B. Rekoder
  - C. Biola
  - D. Tamborin

**Soalan 12 adalah berdasarkan gambar rajah di bawah**



12. Isyarat tangan di atas melambangkan solfa \_\_\_\_\_
- A. Mi
  - B. Do
  - C. Fa
  - D. Re

**Soalan 13 adalah berdasarkan gambar rajah di bawah**



13. Isyarat tangan di atas melambangkan solfa \_\_\_\_\_
- A. Mi
  - B. Do
  - C. Fa
  - D. Re

14. Muzik tradisional Asia Pi Pat berasal dari negara \_\_\_\_\_
- A. Brunei
  - B. Thailand
  - C. Singapura
  - D. Indonesia

15. Berikut adalah alat muzik Pi Pat, **kecuali** \_\_\_\_\_

- A. Khong wong yai
- B. Klong thad
- C. Ranat thum
- D. Kompang


**Soalan 16 adalah berdasarkan gambar rajah di bawah**



16. Namakan simbol ini \_\_\_\_\_

- A. Klef treble
- B. Kled Bass
- C. Syap
- D. Flat

**Soalan 17 adalah berdasarkan gambar rajah di bawah**



17. Apakah nama not ini \_\_\_\_\_

- A. Krocet
- B. Semibrif
- C. Minim
- D. Kuaver

**Soalan 18 adalah berdasarkan gambar rajah di bawah**



18. Berapakah nilai not di atas?

- A. 2
- B. 4
- C. 3
- D. 1

Soalan 19 hingga 20 adalah berdasarkan gambar rajah di bawah



19. Apakah nama not ini \_\_\_\_\_
- A. Semibrif
  - B. Kuaver
  - C. Krocet
  - D. Minim

20. Berapakah nilai not di atas?
- C. 4
  - D. 1/2
  - C. 1
  - D. 3

Soalan 21 adalah berdasarkan gambar rajah di bawah



21. Berapakah nilai not di atas?
- A. 4
  - B. 3
  - C. 2
  - D. 1

22. Pilih pasangan yang betul

- A.  nilainya 3
- B.  nilainya 1
- C.  nilainya 2
- D.  nilainya 4

23. Antara berikut manakah nilai not paling besar?
- A. Kuaver
  - B. Krocet
  - C. Semibrif
  - D. Minim

24. Not yang bernilai 3 ialah \_\_\_\_\_
- A. Minim
  - B. Krocet
  - C. Minim bertitik
  - D. Semibrif

25. Lirik lagu 'Aku Negaraku' pada **baris yang ke empat** ialah \_\_\_\_\_

- a. Di sini tempatku berjasa
- b. Ku sedar sempurna hidupku di sini
- c. Malaysia ku terhutang budi
- d. Ku sedar tanah air aku bertuah

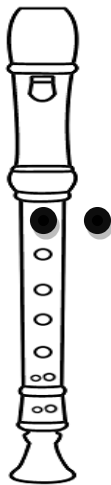
26. Apakah maksud **muzik popular** ?

- A. Muzik tradisional yang dikenali ramai
- B. Muzik semasa yang dikenali ramai
- C. Muzik Barat yang dikenali ramai
- D. Muzik rancak yang dikenali ramai

27. Berikut adalah benar tentang rekoder, **kecuali** \_\_\_\_\_ ?

- A. Rekoder mempunyai 3 bahagian iaitu bahagian atas, tengah dan bawah.
- B. Rekoder mempunyai 2 lubang di bahagian belakang.
- C. Rekoder tidak perlu dibersihkan sebelum dan selepas bermain.
- D. Penjarian rekoder bagi not B ialah dengan meletakkan jari hantu pada lubang hadapan.

**Soalan 28 adalah berdasarkan gambar rajah di bawah**



28. Not rekoder yang dimainkan dalam rajah di atas ialah \_\_\_\_\_

- A B
- B G
- C C'
- D D'

29. **Cara penjarian rekoder** yang betul ialah \_\_\_\_\_
- A. Tangan kiri di bahagian bawah
  - B. Tangan kanan di bahagian atas.
  - C. Tangan kiri di bahagian atas
  - D. Tangan kanan tidak digunakan untuk bermain rekoder

30. Lagu “ Jalur Gemilang” adalah **genre** lagu \_\_\_\_\_
- A. Lagu Tradisional
  - B. Lagu Patriotik
  - C. Lagu Pop
  - D. Lagu Melayu Asli

**\*\*\* KERTAS SOALAN TAMAT \*\*\***