







PENDIDIKAN MUZIK


TAHUN 5

BAHAGIAN A





Bulatkan jawapan yang betul.

1. Sebutan solfa mengikut urutan tinggi ke rendah.  
A so fa mi re do  
B do mi so la so  
C la so fa mi re  
D re so mi so do
2. Nilai minim bertitik ialah \_\_\_\_\_.  
A 1                      C 3  
B 4                      D 2
3. Tanda rehat kuaver ialah \_\_\_\_\_.  
A                       C   
B                       D 
4. Nilai not  ialah \_\_\_\_\_.  
A 1                      C  $\frac{1}{2}$   
B 4                      D 2
5. Maksud frasa  ialah \_\_\_\_\_.  
A secara putus-putus  
B dalam satu nafas  
C pertukaran nafas  
D semakin lembut
6. Maksud *mf* ialah \_\_\_\_\_.  
A kuat  
B sederhana kuat  
C lembut  
D sederhana lembut
7. Cepat atau lambat muzik yang dihasilkan dinyatakan mengikut \_\_\_\_\_.  
A detik  
B tempo  
C dinamik  
D meter
8. Alat muzik yang digunakan dalam persembahan Orkestra Cina ialah \_\_\_\_\_.  
I violin  
II bangu  
III yang qing  
IV rebana  
A I, II, dan III  
B II, III, dan IV  
C II dan IV  
D II dan III





9.  ialah not \_\_\_\_\_.  
A C'  
B G  
C F  
D A

10.  ialah not \_\_\_\_\_.  
A C'  
B G  
C B  
D D'


11. Corak irama bagi meter  $\frac{3}{4}$  ialah

A   
B   
C   
D 

12. Corak irama bagi meter  $\frac{4}{4}$  ialah

A   
B   
C   
D 

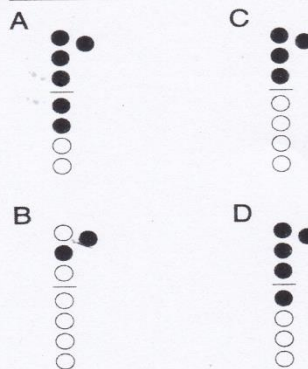
13. Namakan alat perkusi ini.




- A tamborin  
B kastanet  
C dram  
D loceng

14. Alat ini diperbuat daripada besi, berbentuk bulat, bunyi kuat dan berpanjangan. Alat perkusi ini ialah \_\_\_\_\_.
- A kayu tik tok      C simbal  
B tamborin      D kastanet
15. Unsur irama dalam muzik merangkumi \_\_\_\_\_.
- I meter      III not  
II rentak      IV lambat  
A I, II, dan III      C I, III, dan IV  
B II, III, dan IV      D semua di atas
16. Lagu yang rancak dimainkan dalam tempo yang \_\_\_\_\_.
- A lambat      C cepat  
B sederhana      D semakin laju
17. *Fine* dalam skor lagu bermaksud \_\_\_\_\_.
- A ulang semula      C licin  
B tamat      D lancar
18. Gerakan anggota badan yang kecil dan ringan boleh menunjukkan keadaan seperti \_\_\_\_\_.
- I hujan lebat  
II burung berkicauan  
III angin kencang  
IV bunga berkembang  
A I dan III      C I, III, dan IV  
B II dan IV      D II dan III

19. Penjarian not F pada rekoder ialah \_\_\_\_\_.



20. Penjarian not E pada rekoder ialah \_\_\_\_\_.



(20 markah)m

BAHAGIAN B

1. Namakan not dan jenis not berikut.

Four musical staves are shown, each with a note and a label 'Not' above it. Below each staff is a label 'Jenis' and a blank space for an answer. (a) shows a quarter note on the first line. (b) shows an eighth note on the first line. (c) shows a dotted quarter note on the first line. (d) shows a half note on the first line.

2. Namakan not yang bertanda \*

A musical staff in 4/4 time is shown. The notes are: quarter, eighth, quarter, eighth, quarter, eighth, and half. The first six notes are marked with an asterisk (\*). Below the staff are seven oval shapes for labeling.

(22 markah)

### BAHAGIAN C

Lengkapkan senikata lagu di bawah.

joran	hilang	adikku	sayang
hidangan	keluarga	ikan	abang

### ADIKKU SAYANG

Bangun \_\_\_\_\_ sayang

Bawa pukal dan \_\_\_\_\_

Tangkap \_\_\_\_\_ dan udang

Buat jamu \_\_\_\_\_

Adik adikku \_\_\_\_\_

Nun jauh \_\_\_\_\_ pulang

Riang dan rindu \_\_\_\_\_

Kita \_\_\_\_\_ riang

(8 markah)