

NO. KAD PENGENALAN

ANGKA GILIRAN

Nama ..... Tingkatan .....



**JABATAN PELAJARAN NEGERI SELANGOR**  
**MAJLIS PENGETUA SEKOLAH MALAYSIA NEGERI SELANGOR**



**PROGRAM PENINGKATAN PRESTASI AKADEMIK**  
**PEPERIKSAAN AKHIR TAHUN 2011**  
**TINGKATAN 4**

**1225/1**

**PENDIDIKAN MORAL**

**Kertas 1**  
**Okt./Nov.**

**2  $\frac{1}{2}$  jam**

**Dua jam tiga puluh minit**

**JANGAN BUKA KERTAS SOALAN INI SEHINGGA DIBERITAHU**

1. *Tuliskan nombor kad pengenalan, angka giliran, nama dan tingkatan anda pada petak yang disediakan.*
2. *Kertas soalan ini mengandungi dua bahagian: Bahagian A dan Bahagian B.*
3. *Jawab semua soalan dalam Bahagian A dan dua soalan daripada Bahagian B.*
4. *Jawapan anda hendaklah ditulis pada ruang yang disediakan dalam kertas soalan ini.*
5. *Markah yang diperuntukan bagi setiap soalan atau ceraian soalan ditunjukkan dalam kurungan.*
6. *Sekiranya anda hendak menukar jawapan, batalkan dengan kemas jawapan yang telah dibuat. Kemudian tulis jawapan yang baru.*

Untuk Kegunaan Pemeriksa			
Kod Pemeriksa :			
Bahagian	Soalan	Markah Penuh	Markah Diperoleh
A	1	10	
	2	10	
	3	10	
	4	10	
	5	10	
	6	10	
	7	10	
	8	10	
B	9	10	
	10	10	
	11	10	
Jumlah			

**AMARAN**

1. **Kertas soalan ini adalah kertas soalan tertutup.**
2. **Kandungan kertas soalan ini tidak boleh disalin, dicetak semula atau dikeluarkan dengan apa cara sekalipun.**
3. **Kertas soalan ini mesti diserahkan kepada Ketua Pengawas di dalam bilik peperiksaan sebaik sahaja ujian tamat.**
4. **Kertas soalan ini hak milik Pengarah Peperiksaan. Ketua Pengawas hendaklah memastikan kertas soalan ini dikembalikan kepada Pengarah Peperiksaan setelah ujian tamat.**

Kertas soalan ini mengandungi 15 halaman bercetak dan 1 halaman tidak bercetak.  
free Q papers, free skema at : [www.myschoolchildren.com](http://www.myschoolchildren.com)

Muat turun (percuma) soalan lain di : [www.myschoolchildren.com](http://www.myschoolchildren.com) Muat turun (percuma) skema lain di : [www.myschoolchildren.com](http://www.myschoolchildren.com)

**Bahagian A**  
[80 markah]  
Jawab semua soalan.

1 Rani telah terpilih sebagai tokoh murid sekolahnya berdasarkan kriteria berikut:



- Mencapai 10A+ dalam peperiksaan SPM
- Mewakili sekolah dalam pelbagai aktiviti kokurikulum sehingga peringkat kebangsaan
- Memegang jawatan sebagai Ketua Pengawas sekolah

(a) Berdasarkan situasi di atas, nyatakan **dua** nilai yang diamalkan oleh Rani.

- (i) .....
- (ii) .....

[2 markah]

(b) Beri definisi **satu** daripada nilai di 1 (a).

.....  
.....  
.....

[2 markah]

(c) Beri **dua** kesan kepada remaja sekiranya mereka tidak mempunyai matlamat hidup.

- (i) .....
- (ii) .....

[2 markah]

(d) Nyatakan **dua** ciri remaja yang cemerlang.

- (i) .....
- (ii) .....


[2 markah]

(e) Nyatakan **dua** kegiatan negatif yang perlu dielakkan oleh remaja yang mempunyai matlamat dalam hidup.

- (i) .....
- (ii) .....

[2 markah]

2 Baca petikan berikut:



Pada hari Visakhi, penganut agama Sikh akan beribadat di Gurdwara. Ranjit Singh yang bekerja di Johor sering memberi alasan kepada ibu bapanya untuk tidak pulang semasa perayaan Visakhi.

(a) Huraikan **dua** nilai yang patut diamalkan oleh Ranjit Singh.

- (i) .....
- .....
- .....
- (ii) .....
- .....
- .....

[4 markah]

(b) Senaraikan **dua** kepentingan amalan adat resam kepada generasi muda.

- (i) .....
- .....
- (ii) .....
- .....

[2 markah]

(c) Nyatakan **dua** peranan ibu bapa untuk memastikan anak-anak mengamalkan adat resam keluarga.

- (i) .....
- .....
- (ii) .....
- .....

[2 markah]


(d) Beri **dua** contoh adat resam yang masih diamalkan oleh kaum-kaum berikut:

- (i) Cina - .....
- (ii) India - .....

[2 markah]

Muat turun (percuma) soalan lain di : [www.myschoolchildren.com](http://www.myschoolchildren.com) Muat turun (percuma) skema lain di [www.myschoolchildren.com](http://www.myschoolchildren.com)

3 Baca petikan dialog berikut:



(a) Huraikan **dua** nilai yang ingin diterapkan oleh bapa kepada Agok.

(i) .....

.....

.....

(ii) .....

.....

.....

[4 markah]

(b) Nyatakan **dua** kepentingan hutan kepada manusia.

(i) .....

(ii) .....

[2 markah]

(c) Ramalkan **dua** kesan penebangan hutan secara berleluasa.

(i) .....

(ii) .....

[2 markah]

(d) Bahan sisa pertanian boleh diurus melalui proses menebus guna semula.


Nyatakan **dua** kegunaan bahan sisa pertanian.

(i) .....

(ii) .....

[2 markah]

4 Baca petikan monolog berikut:



Saya ditawarkan pekerjaan di luar negara dengan gaji yang lumayan dalam bidang komputer. Negara kita Malaysia juga memerlukan ramai pakar dalam bidang komputer, tetapi gaji di sini tidak lumayan. Apakah pilihan saya?

(a) Berdasarkan situasi di atas, nyatakan **dua** nilai yang patut diamalkan oleh Embun.

(i) .....

(ii) .....

[2 markah]

(b) Beri definisi **satu** daripada nilai di 4(a).

.....  
 .....  
 .....

[2 markah]

(c) Terangkan **dua** sebab Embun harus membuat keputusan bekerja di negara sendiri.

(i) .....

.....

(ii) .....

.....

[4 markah]

(d) Nyatakan **dua** cara kerajaan menggalakkan rakyat Malaysia yang bekerja di luar negara supaya kembali bekerja di negara ini.

(i) .....

.....

(ii) .....

.....

[2 markah]

5 Baca petikan akhbar berikut:

Klang - Seramai 60 orang pekerja sebuah kilang elektronik telah melaporkan bahawa mereka terpaksa tinggal di rumah yang disediakan oleh majikan mereka tanpa bekalan air. Mereka juga mogok kerana tidak dibayar gaji selama 6 bulan.

(a) Jelaskan **dua** nilai yang sepatutnya diamalkan oleh majikan kilang elektronik tersebut.

(i) .....  
.....  
.....

(ii) .....  
.....  
.....

[4 markah]

(b) Namakan **dua** organisasi yang melindungi kebajikan pekerja di Malaysia.

(i) .....

(ii) .....

[2 markah]

(c) Nyatakan **dua** ciri yang perlu ada pada seorang pekerja yang baik.

(i) .....

.....

(ii) .....

.....

[2 markah]

(d) Sebutkan **dua** kemudahan yang perlu disediakan oleh majikan untuk pekerjaanya.

(i) .....

(ii) .....

[2 markah]

Muat turun (percuma) soalan lain di : [www.myschoolchildren.com](http://www.myschoolchildren.com) Muat turun (percuma) skema lain di [www.myschoolchildren.com](http://www.myschoolchildren.com)

6 Lihat gambar dan baca petikan berikut:



Negara Malaysia adalah sebuah negara yang unik. Hal ini kerana rakyatnya yang terdiri daripada pelbagai kaum bebas memilih dan mengamalkan agama masing-masing.

(a) Nyatakan **dua** nilai yang diamalkan oleh rakyat Malaysia.

- (i) .....
- (ii) .....
- [2 markah]

(b) Beri definisi **satu** daripada nilai di 6(a).

.....

.....

.....

[2 markah]

(c) Namakan **satu** tempat beribadat bagi penganut agama berikut:

- (i) Hindu - .....
- (ii) Islam - .....
- [2 markah]

(d) Beri **dua** cara anda menghormati rumah ibadat.

- (i) .....
- (ii) .....
- [2 markah]

(e) Nyatakan **dua** bukti bahawa rakyat Malaysia mengamalkan kebebasan beragama di negara ini.

- (i) .....
- (ii) .....
- [2 markah]

7 Cara-cara untuk mencapai Konsep 1Malaysia:



Hidup bersatu padu dengan semua
Tidak menyentuh isu sensitif
Tolong-menolong sesama kaum
Menyokong program kerajaan

(a) Nyatakan **dua** nilai yang perlu diamalkan oleh rakyat Malaysia bagi menjayakan Konsep 1Malaysia.

(i) .....

(ii) .....

[2 markah]

(b) Beri maksud **satu** daripada nilai di 7(a).

.....  
 .....  
 .....

[2 markah]

(c) Nyatakan **dua** isu sensitif yang tidak wajar dipersoalkan.

(i) .....

(ii) .....

[2 markah]

(d) Ramalkan **dua** kesan sekiranya rakyat tidak menghormati hak kaum lain.

(i) .....

(ii) .....

[2 markah]

(e) Nyatakan **dua** cara anda mengamalkan Konsep 1Malaysia di sekolah.

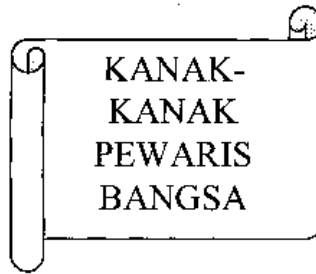
(i) .....

(ii) .....

[2 markah]



8 Lihat gambar Sambutan Hari Kanak-kanak berikut:



(a) Sambutan Hari Kanak-kanak ini menunjukkan masyarakat mengamalkan nilai 'melindungi hak kanak-kanak'. Beri **maksud** nilai ini.

.....  
 .....  
 .....

[2 markah]

(b) Selain nilai di atas, nyatakan **dua** nilai lain yang perlu diamalkan oleh ibu bapa terhadap anak-anak mereka.

- (i) .....
- (ii) .....

[2 markah]

(c) Beri **dua** sebab mengapa sambutan Hari Kanak-kanak diadakan setiap tahun.

- (i) .....
- (ii) .....

[2 markah]

(d) Senaraikan **dua** aktiviti yang diadakan semasa Sambutan Hari Kanak-kanak.

- (i) .....
- (ii) .....

[2 markah]

(e) Nyatakan **dua** cara pihak sekolah boleh mengiktiraf kanak-kanak yang berjaya dalam bidang akademik dan kokurikulum.

- (i) .....
- (ii) .....

[2 markah]

**Bahagian B**

[20 markah]

Jawab **dua** soalan sahaja.

**Arahan:** Setiap jawapan haruslah berlandaskan **dua** nilai serta disokong dengan penerangan atau huraian atau contoh yang sesuai.

9 Sebuah sekolah telah menjalankan kempen “Kesedaran Alam Sekitar”. Antara aktiviti yang telah dijalankan sepanjang kempen tersebut ialah:

- Menjual surat khabar lama
- Mengumpul bahan yang boleh dikitar semula
- Menanam pokok bunga di sekitar kawasan sekolah
- Membuat cenderamata dari barang terpakai atau bahan buangan

Huraikan **dua** nilai yang ingin diterapkan dalam kalangan murid melalui kempen ini.

[10 markah]

.....

.....

.....

.....

.....

.....

.....

.....

.....

.....

.....

.....

.....

.....

.....

.....

.....

.....

.....

.....

.....

.....


.....

Muat turun (percuma) soalan lain di : [www.myschoolchildren.com](http://www.myschoolchildren.com) Muat turun (percuma) skema lain di [www.myschoolchildren.com](http://www.myschoolchildren.com)

Area containing multiple horizontal dotted lines for writing.

Muat turun (percuma) soalan lain di : [www.myschoolchildren.com](http://www.myschoolchildren.com) Muat turun (percuma) skema lain di [www.myschoolchildren.com](http://www.myschoolchildren.com)

- 10 Berikut merupakan luahan perasaan ibu dalam kisah “Si Tanggang Anak Derhaka” yang disumpah menjadi batu kerana mengabaikan ibunya selepas dia berjaya dalam hidup.



*Anakku Tanggang! Sampai hati kamu tidak mengaku aku ibumu. Semasa kamu kecil aku menyusukan dan menjagamu seperti intan. Kini kamu sudah kaya-raya dan mempunyai isteri yang cantik. Tetapi kamu malu melihat ibumu yang miskin dan lemah ini. Ya, Tuhan. Tunjukkanlah kekuasaanmu pada anak derhaka ini.*

Jelaskan **dua** nilai yang patut diteladani oleh setiap anak daripada kisah “Si Tanggang Anak Derhaka” ini.

[10 markah]

Handwriting practice area consisting of 25 horizontal dotted lines.

Muat turun (percuma) soalan lain di : [www.myschoolchildren.com](http://www.myschoolchildren.com) Muat turun (percuma) skema lain di [www.myschoolchildren.com](http://www.myschoolchildren.com)

11 Baca dan fahami empat daripada sembilan cabaran Wawasan 2020 berikut:

Mewujudkan masyarakat bermoral dan beretika

Mewujudkan masyarakat liberal dan bertolak ansur

Memastikan masyarakat yang adil dalam bidang ekonomi

Mewujudkan masyarakat yang penyayang

Bincangkan **dua** nilai yang perlu diamalkan oleh rakyat Malaysia untuk merealisasikan cabaran dalam Wawasan 2020 ini.

[10 markah]

.....

.....

.....

.....

.....

.....

.....

.....

.....

.....

.....

.....

.....

.....

.....

.....

.....

.....

.....

.....

.....

.....

Muat turun (percuma) soalan lain di : [www.myschoolchildren.com](http://www.myschoolchildren.com) Muat turun (percuma) skema lain di [www.myschoolchildren.com](http://www.myschoolchildren.com)

Area containing horizontal dotted lines for writing.

Muat turun (percuma) soalan lain di : [www.myschoolchildren.com](http://www.myschoolchildren.com) Muat turun (percuma) skema lain di [www.myschoolchildren.com](http://www.myschoolchildren.com)

**KERTAS SOALAN TAMAT**