

**PENTAKSIRAN AKHIR TAHUN 2018  
TAHUN 4**

Nama : ..... Tahun : .....

---

**SEJARAH**

Satu Jam

---

**JANGAN BUKA KERTAS SOALAN INI SEHINGGA DIBERITAHU**

**ARAHAN**

1. Kertas ini mengandungi **5** bahagian,
2. Jawab **semua** soalan di dalam kertas soalan ini.
3. Jika kamu hendak menukar jawapan, padamkan tanda yang telah dibuat. Kemudian tuliskan jawapan yang baru.

Untuk Kegunaan Pemeriksa		
Bahagian	Markah	Markah Diperoleh
A	30	
B	5	
C	7	
D	5	
E	3	
Jumlah	50	<b>X 2</b>
Markah Keseluruhan		<b>%</b>


---

*Kertas soalan ini mengandungi 12 halaman bercetak.*

## Bahagian A

Bahagian ini mengandungi **30 soalan objektif**. Tiap-tiap soalan diikuti oleh empat pilihan jawapan, iaitu **A, B, C** dan **D**. Bulatkan **SATU** sahaja jawapan yang betul.

1. Kamus Dewan mentakrifkan sejarah sebagai \_\_\_\_\_.  
**A.** Peristiwa yang berlaku dengan bukti-bukti sejarah.  
**B.** Tindakan manusia dan sebab mereka melakukannya.  
**C.** Peristiwa yang benar-benar berlaku pada masa lampau.  
**D.** Cerita dan perbuatan manusia yang berlaku dalam masyarakat.



Sejarah ialah tindakan manusia dan sebab-sebab yang dilakukan oleh mereka

2. Pernyataan di atas merupakan pendapat seorang tokoh sejarawan. Siapakah tokoh tersebut?  
**A.** Socrates  
**B.** Herodotus  
**C.** Ibn Khaldun  
**D.** Tunku Abdul Rahman
3. Para sejarawan mengkaji sejarah menggunakan tiga kaedah utama  
 iaitu I. kaedah lisan  
 II. kaedah bertulis III.  
 kaedah arkeologi  
 IV. kaedah pembacaan  
**A.** I, II dan III  
**B.** I, II dan IV  
**C.** I, III dan IV  
**D.** II, III dan IV
4. Kerajaan British memberikan kemerdekaan kepada Persekutuan Tanah Melayu pada \_\_\_\_\_.  
**A.** 31 Ogos 1955  
**B.** 31 Ogos 1957  
**C.** 13 Ogos 1985  
**D.** 23 Ogos 1957

5. Sijil kelahiran merupakan \_\_\_\_\_
- sijil khas untuk bayi yang baru lahir.
  - sijil penghargaan yang mengandungi maklumat diri seseorang.
  - sijil rasmi yang mengandungi keterangan mengenai butir-butir kelahiran.
  - maklumat ringkas diri seseorang yang mengandungi nama dan jantina.
6. Apakah panggilan bapa dan ibu mengikut suku kaum Iban?

	Bapa	Ibu
A.	Ba ba	Ma ma
B.	Apai	Indai
C.	Appa	Amma
D.	Ayah	Ibu

7. \_\_\_\_\_ bertanggungjawab menguruskan hal berkaitan program akademik sekolah.
- Guru Besar
  - Guru Penolong Kanan Pentadbiran
  - Guru Penolong Kanan Hal Ehwal Murid
  - Guru Penolong Kanan Ko-Kurikulum

Soalan 8 berdasarkan pernyataan berikut.




Hisham layak menerima Rancangan Makanan Tambahan tetapi dia tidak terpilih. Siapakah sepatutnya yang dirujuk Hisham?

8. Berdasarkan pernyataan, siapakah yang sepatutnya dirujuk Hisham bagi membantu situasi yang dihadapinya?
- Guru Besar
  - Guru Penolong Kanan Pentadbiran
  - Guru Penolong Kanan Hal Ehwal Murid
  - Guru Penolong Kanan Ko-Kurikulum

9. Alamat yang lengkap memudahkan kita \_\_\_\_\_.
- menziarahi saudara mara
  - mengesan tuan rumah dengan pantas
  - menghantar hadiah hari lahir kepada rakan
  - mengenalpasti lokasi sesebuah rumah dan tempat

Soalan 10 berdasarkan gambar berikut.



10. Rumah Kutai merupakan rumah tradisional orang Melayu di \_\_\_\_\_.
- Perak
  - Johor
  - Melaka
  - Negeri Sembilan

Soalan 11 berdasarkan pernyataan berikut

**X**  
ialah timbunan besar ais yang bergerak perlahan-lahan menuruni cerun dan merebak ke permukaan laut

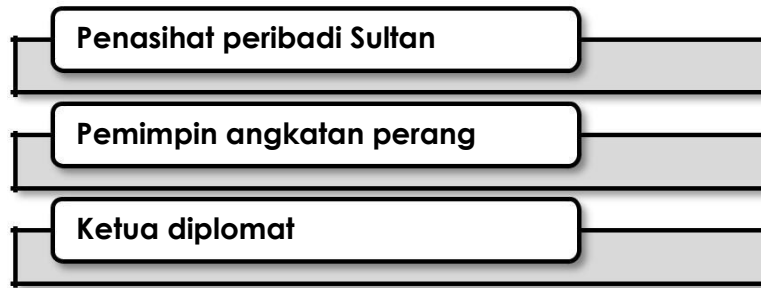
11. X dalam pernyataan di atas merujuk kepada \_\_\_\_\_.
- benua
  - daratan
  - glasier
  - lautan
12. Benua dan lautan terbentuk apabila \_\_\_\_\_.
- Air batu mulai cair
  - Air batu menutupi bumi
  - Suhu bumi menurun dan hujan lebat
  - Suhu bumi meningkat dan berlaku pergerakan glasier kali kedua





22. \_\_\_\_\_ berada di atas puncak susun lapis masyarakat pada zaman Kesultanan Melayu Melaka .
- A. Sultan  
B. Bendahara  
C. Temenggung  
D. Laksamana

Soalan 23 berdasarkan pernyataan yang diberi.



23. Ciri-ciri di atas menunjukkan peranan seorang \_\_\_\_\_ pada zaman Kesultanan Melayu Melaka.
- A. Sultan  
B. Bendahara  
C. Temenggung  
D. Laksamana
24. Menurut sumber China dan Portugis, siapakah merupakan pengasas Kesultanan Melayu Melaka?
- A. Temagi  
B. Parameswara  
C. Penghulu Bendahari  
D. Sultan Iskandar Syah

Soalan 25 berdasarkan pernyataan berikut.

***Parameswara mendapati Temasik berkembang maju dan ingin menjadi pemerintah disitu.***

25. Apakah peristiwa yang berlaku selepas itu?
- A. Parameswara berundur ke Muar.  
B. Parameswara tiba di Sungai Bertam.  
C. Parameswara telah menyerang Temagi  
D. Parameswara menyelamatkan diri dari serangan Majapahit.

Soalan 26 berdasarkan pernyataan yang diberi.



**Tokoh Y**

- Memegang jawatan Bendahara Melaka.
- Berperanan memperluaskan Kesultanan Melayu Melaka.
- Telah berkhidmat dibawah empat orang Sultan

26. Siapakah **Tokoh Y** yang dimaksudkan dalam pernyataan di atas?
- |             |                   |
|-------------|-------------------|
| A. Tun Ali  | C. Tun Perak      |
| B. Tun Kudu | D. Tun Sri Lanang |
27. Apakah strategi Tun Perak dalam menangkis serangan Siam kali kedua?
- A. Mematahkan serangan Siam.
  - B. Menggunakan teknik balas dendam.
  - C. Menyuruh Pahlawan Kelang membawa ahli keluarga pergi berperang.
  - D. Mengupah pemuda yang gila-gila bahasa dan mengikat jamung di pantai.
28. \_\_\_\_\_ ialah Laksamana yang masyhur semasa Kesultanan Melayu Melaka.
- |               |                 |
|---------------|-----------------|
| A. Hang Tuah  | C. Hang Jebat   |
| B. Hang Lekir | D. Hang Kasturi |
29. Yang manakah **TIDAK BENAR** berkaitan peranan Hang Tuah sebagai Laksamana Melaka?
- |                        |                                    |
|------------------------|------------------------------------|
| A. Pemangku Sultan     | C. Pengawal peribadi Sultan        |
| B. Ketua Angkatan Laut | D. Mengetuai utusan ke negara luar |
30. Nyatakan sifat Laksamana Hang Tuah yang paling menonjol semasa berkhidmat kepada Sultan Melaka.
- |              |                                    |
|--------------|------------------------------------|
| A. Berani    | C. Bertanggung jawab               |
| B. Bijaksana | D. Kesetiaan tidak berbelah bahagi |



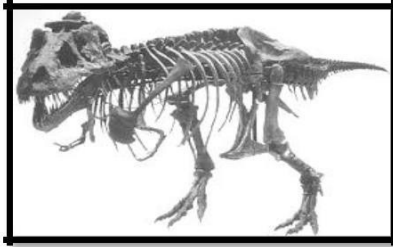
## Jawab semua soalan

### Bahagian B

Lihat gambar, kemudian isikan sumber sejarah yang betul dalam rajah di bawah.



Surat khabar



Fosil




Majalah



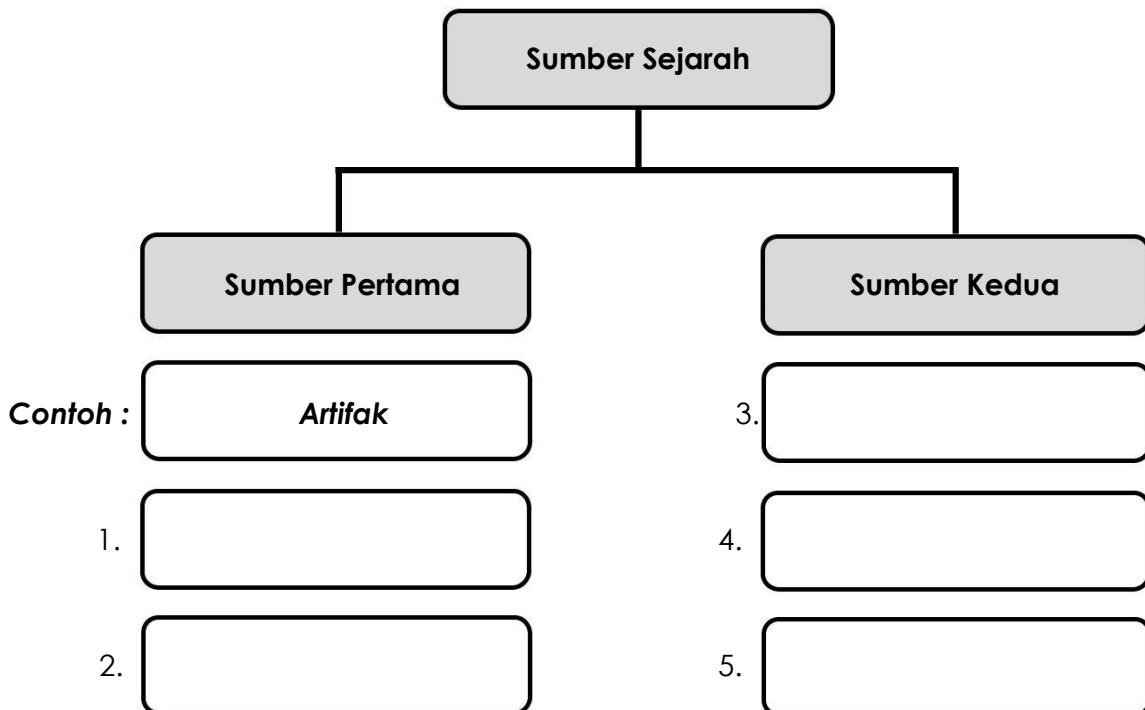
Artifak



Manuskrip



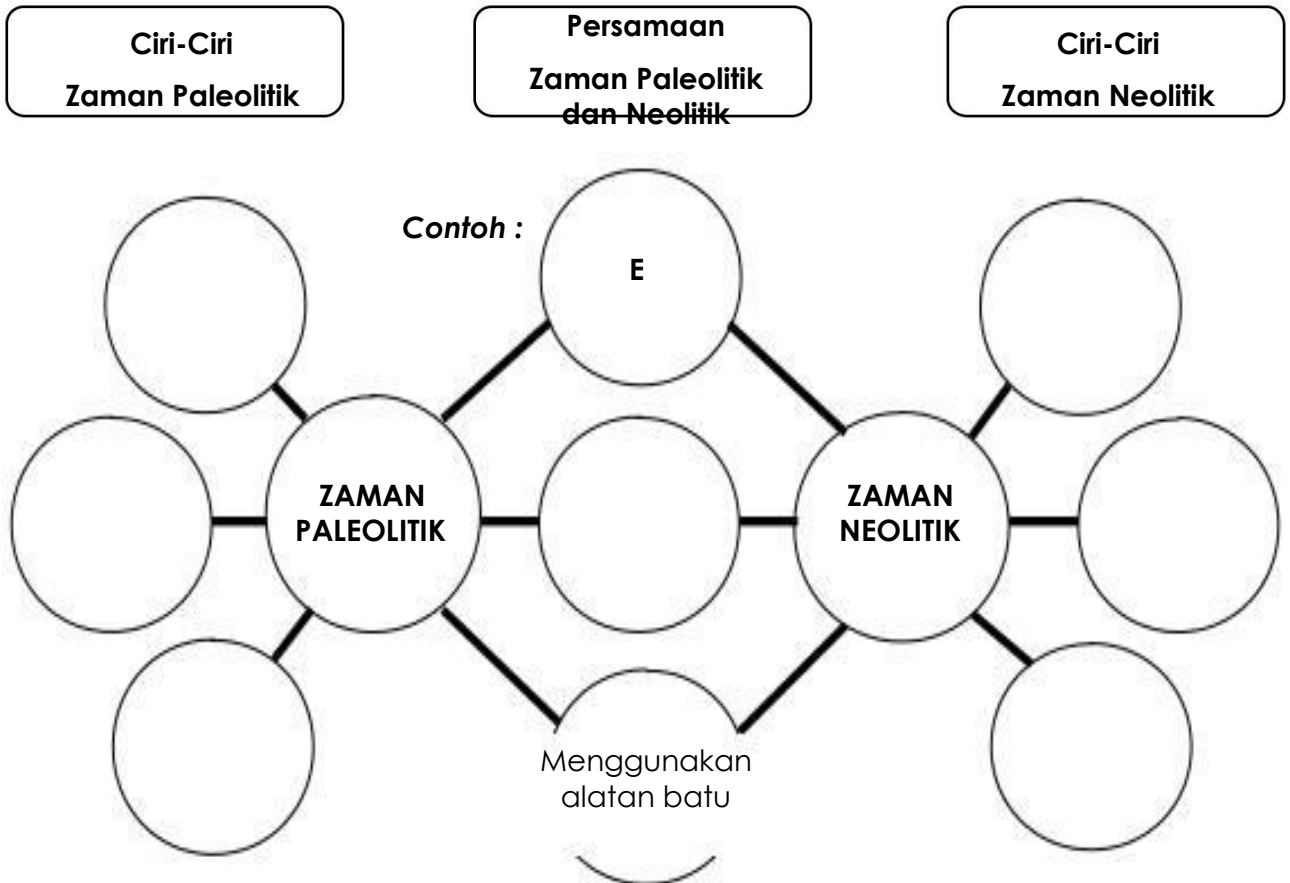
Buku



### Bahagian C

Lengkapkan Peta Pemikiran Buih Berganda yang berikut dengan berdasarkan ciri-ciri manusia pada zaman Paleolitik dan Neolitik yang telah disediakan.

<b>A</b>	Mencari hasil hutan	<b>E</b>	Tahu mengebumikan mayat
<b>B</b>	Mempunyai ketua	<b>F</b>	Tinggal dalam gua
<b>C</b>	Sistem Barter	<b>G</b>	Berpindah-randah
<b>D</b>	Tinggal di kawasan lapang	<b>H</b>	Wujud 40 000 tahun dahulu



### Bahagian D

Lengkapkan tempat kosong dibawah dengan nama - nama kerajaan Melayu Awal

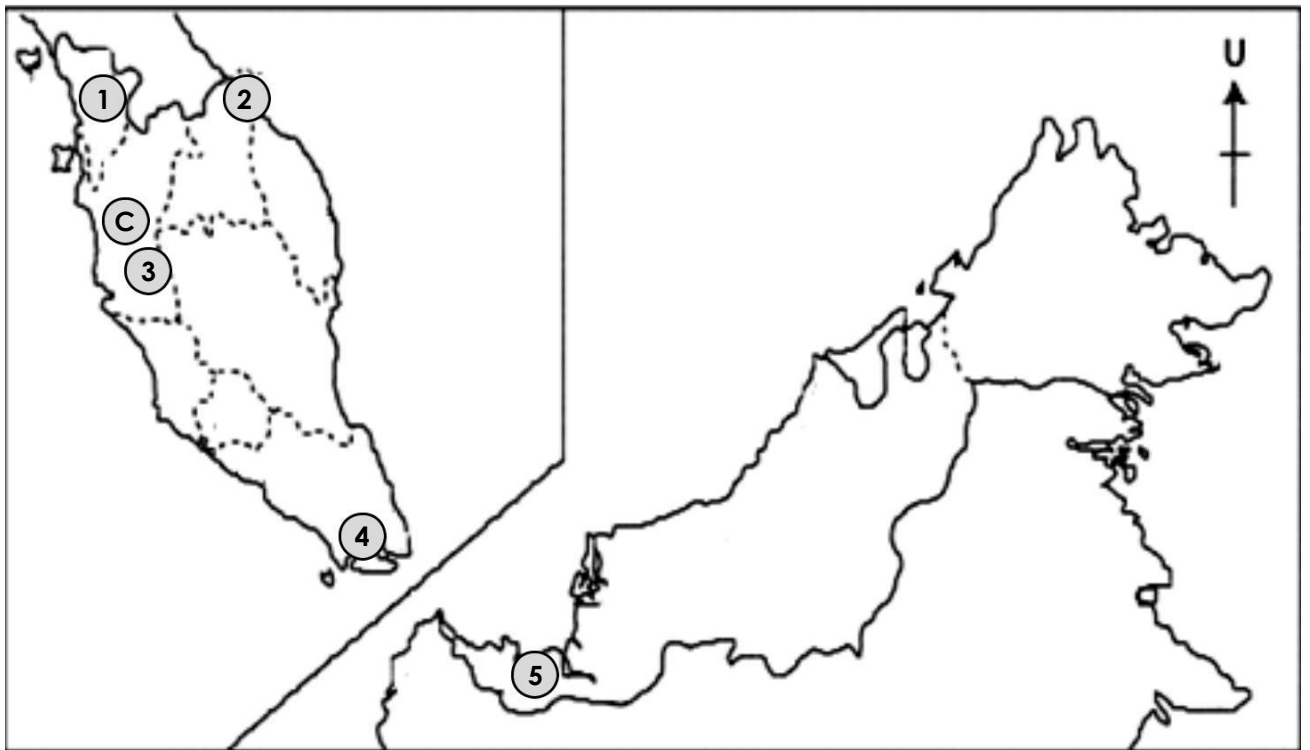
Santubong	Gangga Negara	Kedah Tua
Chih-Tu	Temasik	Beruas

Contoh :

(C) Beruas
------------

(1)
-----

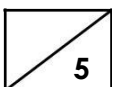
(2)
-----



(3)
-----

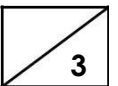
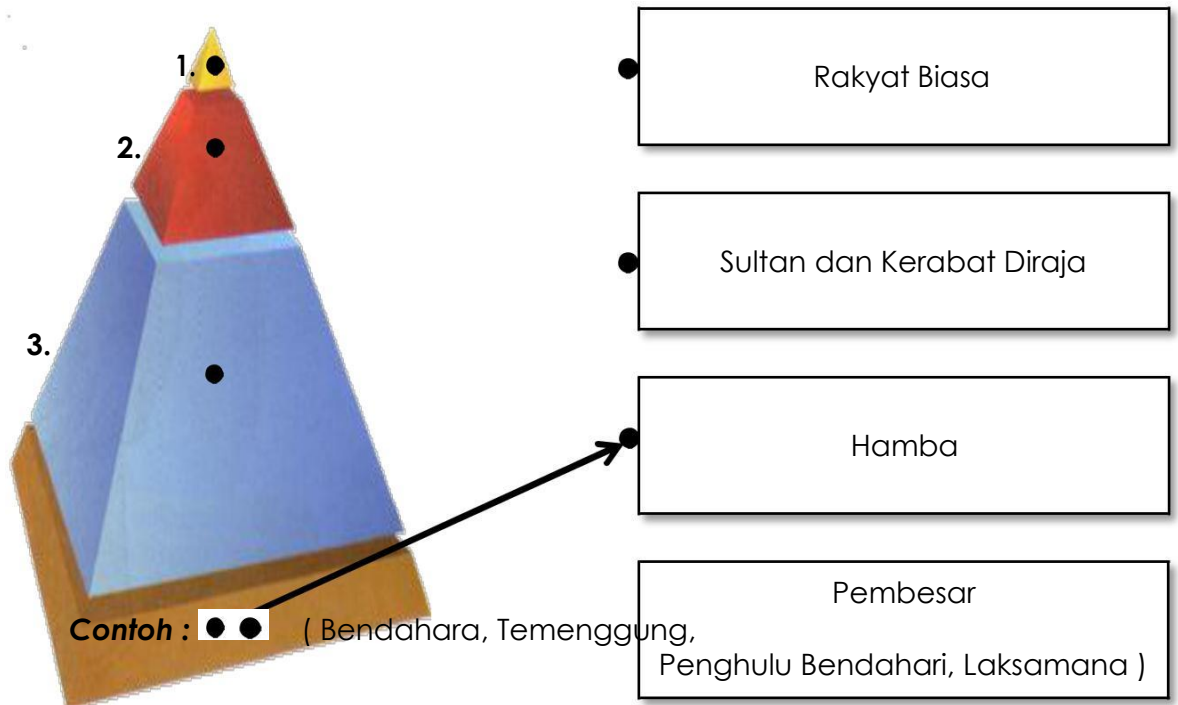
(4)
-----

(5)
-----



### Bahagian E

Padankan susun lapis pemerintahan semasa zaman Kesultanan Melayu Melaka berikut.



SOALAN TAMAT

**SKIMA JAWAPAN  
PEPERIKSAAN AKHIR TAHUN 2018  
SEJARAH  
TAHUN 4**

<b>Bahagian A</b>						
1.	<b>C</b>		11.	<b>C</b>	21.	<b>D</b>
2.	<b>B</b>		12.	<b>D</b>	22.	<b>A</b>
3.	<b>A</b>		13.	<b>D</b>	23.	<b>B</b>
4.	<b>B</b>		14.	<b>B</b>	24.	<b>B</b>
5.	<b>C</b>		15.	<b>D</b>	25.	<b>C</b>
6.	<b>B</b>		16.	<b>A</b>	26.	<b>C</b>
7.	<b>B</b>		17.	<b>D</b>	27.	<b>D</b>
8.	<b>C</b>		18.	<b>A</b>	28.	<b>A</b>
9.	<b>D</b>		19.	<b>C</b>	29.	<b>A</b>
10.	<b>A</b>		20.	<b>A</b>	30.	<b>D</b>
<b>Bahagian B</b>			<b>Bahagian C</b>			
1.	<b>Fosil</b>	} <b>Sumber Pertama</b>	1.	<b>F</b>	} <b>Zaman Paleolitik</b>	
2.	<b>Manuskrip</b>		2.	<b>G</b>		
3.	<b>Surat khabar</b>	} <b>Sumber Kedua</b>	3.	<b>H</b>		
4.	<b>Majalah</b>		4.	<b>A</b>	} <b>Persamaan</b>	
5.	<b>Buku</b>		5.	<b>B</b>		
			6.	<b>C</b>	} <b>Zaman Neolitik</b>	
			7.	<b>D</b>		
<b>Bahagian D</b>			<b>Bahagian E</b>			
1.	<b>Kedah Tua</b>		1.	<b>Sultan dan Kerabat Diraja</b>		
2.	<b>Chih-Tu</b>		2.	<b>Pembesar</b>		
3.	<b>Gangga Negara</b>		3.	<b>Rakyat Biasa</b>		
4.	<b>Temasik</b>					
5.	<b>Santubong</b>					