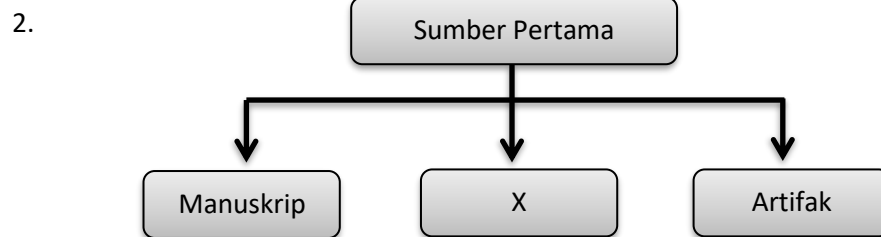


BAHAGIAN A : SOALAN OBJEKTIF (25 MARKAH)**Bulatkan jawapan yang betul.**

1. Sejarah ialah tindakan manusia dan sebab-sebab yang dilakukan oleh mereka.


Pernyataan di atas menerangkan makna sejarah oleh seorang sejarawan. Siapakah tokoh tersebut?

- | | | | |
|----|---------------------|----|---------------|
| A. | Muhd. Yusof Ibrahim | C. | Ibn Khaldun |
| B. | Herodotus | D. | Suma Oriental |



Maklumat berikut adalah sumber sejarah. Apakah X?

- | | | | |
|----|---------|----|--------|
| A. | Majalah | C. | Fosil |
| B. | Buku | D. | Akhbar |



Mengapakah sumber sejarah tersebut penting untuk kita?

- | | |
|----|--------------------------------------|
| A. | Menjadi kebanggaan masyarakat dahulu |
| B. | Mendapatkan maklumat yang tepat |
| C. | Merekod cerita lisan |
| D. | Mencatat cerita legenda |

4.



Perbualan berikut adalah antara seorang murid dengan guru di dalam kelas. Apakah kaedah yang digunakan oleh murid itu untuk mencari maklumat sejarah tersebut?

- A. Arkeologi
B. Lisan
C. Bertulis
D. Pandang dengar

5. Maklumat dalam jadual berikut merupakan nama panggilan dalam masyarakat India. Apakah X?

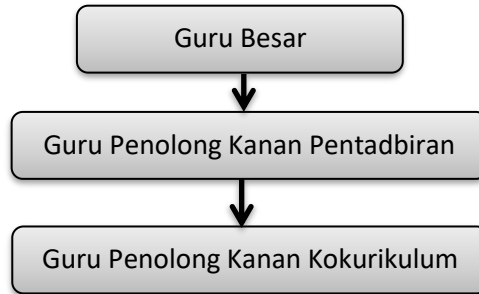
Nama Panggilan	Rujukan
appa	bapa
amma	ibu
X	abang
akka	kakak

- A. annan
B. tenik keral
C. aka
D. ge ge

6. Apakah yang melambangkan identiti sesebuah sekolah?

- I Murid
II Bendera
III Lencana
IV Guru
- A. I dan II
B. I dan IV
C. II dan III
D. III dan IV

7.



Pemegang jawatan di atas sangat berjasa kepada sekolah kerana _____ .

- A. murid sangat menghormati mereka
 B. mereka yang membuat laporan tahunan sekolah
 C. mereka memastikan sekolah dalam keadaan terurus
 D. mereka melaksanakan matlamat pengarah
8. Antara berikut, siapakah yang membunuh J.W.W. Birch?
- A. Tok Janggut
 B. Datuk Bahaman
 C. Dato' Maharaja Lela
 D. Seputum
9. Apakah lautan yang terbentuk selepas pencairan air batu?
- I Lautan Pasifik Utara
 II Lautan Antartika
 III Lautan Hindi
 IV Lautan Asia
- A. I, II dan III
 B. I, II dan IV
 C. II, III dan IV
 D. Semua di atas
10. Antara berikut, benua manakah yang paling besar di dunia?
- A. Benua Asia
 B. Benua Afrika
 C. Benua Antartika
 D. Benua Eropah
11. Antara berikut, peralatan manakah yang dihasilkan pada Zaman Logam?
- I Beliung
 II Kapak
 III Sabit
 IV Serpihan batu
- A. I dan II
 B. I dan IV
 C. II dan III
 D. III dan IV

12.



Senarai di atas adalah merujuk kepada lokasi masyarakat zaman X di Malaysia. Apakah kegiatan ekonomi yang dijalankan oleh mereka?

- | | | | |
|----|--------------------|-----|----------------------|
| I | bercucuk tanam | III | memburu binatang |
| II | menternak binatang | IV | memungut hasil hutan |
| A. | I dan II | C. | II dan III |
| B. | I dan IV | D. | III dan IV |

13.

- Wujud pada abad ke 11 Masihi.
- Terletak berhampiran Sungai Dinding
- Terkenal sebagai kawasan penanaman padi

Maklumat di atas merujuk kepada ciri-ciri kerajaan Melayu awal yang terletak di Tanah Melayu. Apakah kerajaan yang dimaksudkan itu?

- | | | | |
|----|---------------|----|-----------|
| A. | Gangga Negara | C. | Chih-Tu |
| B. | Temasik | D. | Kedah Tua |

14. Siapakah yang mengasaskan Kesultanan Melayu Melaka sekitar tahun 1400?

- | | | | |
|----|----------------------|----|-----------|
| A. | Sultan Muzaffar Shah | C. | Hang Tuah |
| B. | Parameswara | D. | Tun Perak |

15. Antara berikut, siapakah yang berperanan menasihati sultan dalam pentadbiran Kesultanan Melayu Melaka?

- | | | | |
|----|-----------|----|------------|
| A. | Bendahara | C. | Syahbandar |
| B. | Laksamana | D. | Temenggong |

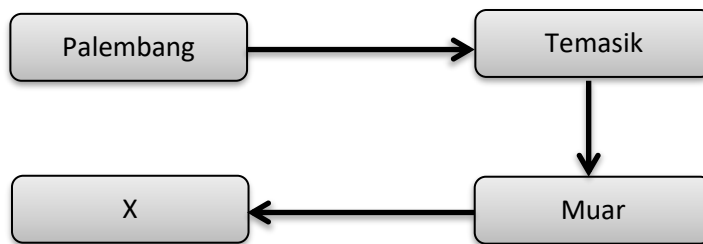
20. Rajah berikut berkaitan dengan susun lapis Kesultanan Melayu Melaka.



Apakah peranan Laksamana dalam pemerintahan Kesultanan Melayu Melaka?

- A. pemimpin angkatan perang
 B. pengawal peribadi sultan
 C. penasihat peribadi sultan
 D. ketua diplomat

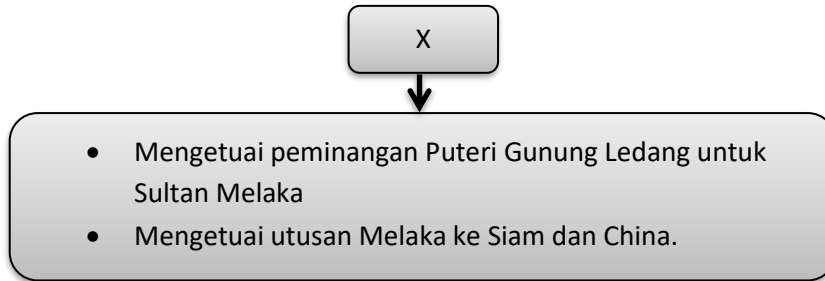
- 21.



Rajah di atas menunjukkan perjalanan Parameswara sebelum membuka petempatan di Melaka. Apakah X?

- A. Sening ujung
 B. Melaka
 C. Batu Pahat
 D. Segamat
22. Antara berikut, yang manakah sebab Tun Perak membawa pengikut dan keluarga mereka dari Kelang untuk mempertahankan Melaka daripada serangan Siam?
- A. menjadi benteng pertahanan
 B. menambahkan bilangan tentera
 C. Membangkitkan semangat juang pahlawan
 D. melemahkan pihak musuh

23.



Maklumat di atas merupakan peranan seorang pembesar Melaka. Siapakah pembesar X?

- A. Hang Tuah
B. Tun Perak
C. Hang Jebat
D. Parameswara
24. Mengapakah Tun Perak mengarahkan pengikutnya mengikat jamung di sepanjang pantai Melaka?
- A. Untuk mengelirukan askar Siam yang tiba di waktu malam
B. Untuk mematahkan serangan Siam
C. Untuk mengaku kalah kepada musuh
D. Untuk mengalu-alukan kedatangan askar Siam
25. Antara berikut, yang manakah sahabat karib Hang Tuah yang menderhaka kepada Sultan?
- A. Hang Kasturi
B. Hang Jebat
C. Hang Lekir
D. Hang Lekiu

BAHAGIAN B : SOALAN SUBJEKTIF (25 MARKAH)**Jawab semua soalan.****A. Isi tempat kosong di bawah dengan jawapan yang betul.**

Sejarawan	Biodata	Asas	Sejarah
Bumi	Kepulauan	Bendahara	Mesolitik
	Beruas	lisan	

- Menurut Ibnu Khaldun, _____ menceritakan hal tentang manusia dan perbuatan-perbuatan yang berlaku dalam masyarakat tersebut.
- Sumber _____ seperti rakaman boleh dijadikan sebagai sumber sejarah.
- _____ menggunakan tiga kaedah utama untuk mendapatkan maklumat sejarah, iaitu kaedah lisan, kaedah bertulis dan kaedah arkeologi.
- _____ bermaksud maklumat ringkas diri seseorang seperti nama, jantina, nama ibu bapa, tarikh lahir dan tempat dilahirkan.
- Keluarga _____ terdiri daripada bapa, ibu dan anak-anak.
- Zaman Air Batu merupakan zaman ketika air bau menutupi permukaan _____ .
- _____ Melayu terdiri daripada Tanah Melayu, Sumatera, Pulau Jawa, Pulau Borneo, Sulawesi, Mindanao, Palawan, Luzon, Visayas, Cebu dan Ternate.
- Zaman _____ berlaku antara Zaman Paleolitik dan Zaman Neolitik.
- Kerajaan _____ wujud sekitar abad ke-15 masihi selepas kemerosotan Gangga Negara.
- Tun Perak merupakan _____ yang paling lama berkhidmat.

(10 markah)

B. Tandakan (✓) pada pernyataan yang betul dan (✗) pada pernyataan yang salah.

1. Pemukul kulit kayu digunakan untuk melembutkan kulit kayu untuk dijadikan pakaian pada zaman purba.

2. Bukit Tengkorak, Sabah ialah tapak pembuatan tembikar purba di Asia Tenggara.

3. Suku kaum Kadazan Dusun memanggil ibu, ma ma dan bapa, b aba.

4. Panggilan dalam anggota keluarga dapat merapatkan hubungan kekeluargaan.

5. Guru Penolong Kanan Kokurikulum bertanggungjawab menguruskan hal berkaitan dengan program akademik sekolah

6. Pentas Sunda ialah tanah daratan yang luas. Apabila pentas Sunda ditenggelami air laut, terbentuklah kepulauan Melayu.

7. Manusia Zaman Paleolitik hidup berpindah-randah, memburu binatang dan mengumpulkan hasil hutan.

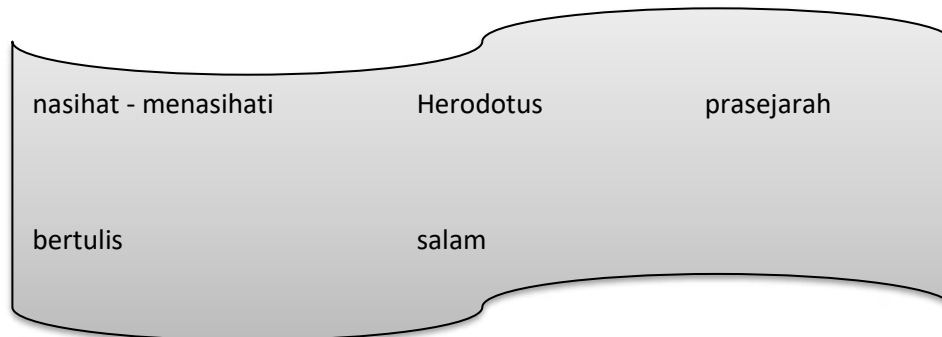
8. Pada Zaman Logam, mayat dikebumikan menggunakan kubur batu kepingan.

9. Kerajaan Santubong merupakan sebuah kerajaan kecil di sungai Sarawak yang wujud sekitar abad ke-7 Masihi.

10. Hang Tuah merupakan pengasas Kesultanan Melayu Melaka.

(10 markah)

C. Isi tempat kosong di bawah ini dengan jawapan yang betul.



1. _____ ialah sejarawan Yunani manakala Ibn Khaldun pula ialah sejarawan Islam.
2. _____ ialah zaman manusia belum mempunyai tulisan.
3. Kajian sejarah terhadap sumber daripada bahan bertulis atau bercetak dikenal sebagai kaedah _____.
4. Kita perlu memberi _____ ketika melawat rakan-rakan.
5. Dalam sesebuah keluarga perlulah sentiasa _____ agar hubungan kekeluargaan lebih akrab.

(5 markah)

- SOALAN TAMAT -

SKEMA JAWAPAN**BAHAGIAN A**

1. B
2. C
3. B
4. B
5. A
6. C
7. C
8. D
9. A
10. A
11. C
12. D
13. D
14. A
15. A
16. A
17. C
18. A
19. B
20. B
21. A
22. C
23. A
24. A
25. B

BAHAGIAN B**SOALAN A :**

1. Sejarah
2. Lisan
3. Sejarahwan
4. Biodata
5. Asas
6. Bumi
7. Kepulauan
8. Mesolitik
9. Beruas
10. Bendahara

SOALAN B :

1. ✓
2. ✓
3. X
4. ✓
5. X
6. ✓
7. ✓
8. ✓
9. ✓
10. X

SOALAN C :

1. Herodotus
2. Prasejarah
3. Bertulis
4. Salam
5. Nasihat-menasihati