

Jawab semua soalan berikut.







Garisan yang bertanda X di atas ialah

- A. Baluk
- B. Klef Trebel
- C. Garis Bar
- D. Bar







- A. Semibrif
- B. Minim
- C. Krocet
- D. Kuaver

3. Tanda rehat kuaver ialah

- A. 
- B. 
- C. 
- D. 

4. Tanda rehat  sama nilai dengan

- A. 
- B. 
- C. 
- D. 

5.  lambang ini dipanggil

- A. Klef Trebel
- B. Klef Bass
- C. Bar
- D. Baluk

6. Tanda rehat  bernilai

- A. $\frac{1}{2}$
- B. 1
- C. 2
- D. 4





7.  adalah not

- A. Minim Bertitik
- B. Krocet Bertitik
- C. Krocet
- D. Kuaver Bertitik





8. Not minim bertitik mempunyai berapa kiraan?

- A. 1 kiraan
- B. 2 kiraan
- C. 3 kiraan
- D. 4 kiraan




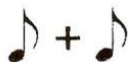
9. Manakah diantara berikut adalah not yang paling besar nilainya




- A. 
- B. 
- C. 
- D. 





10.  sama nilai dengan

- A. 
- B. 
- C. 
- D. 

11. Not  sama nilai dengan

- A. 
- B. 
- C. 
- D. 

12.  =  + 

- A. 
- B. 
- C. 
- D. 

13.  sama nilai _____ kiraan


- A. 1
- B. 2
- C. 3
- D. 4

14. Meter $\frac{4}{4}$ boleh digunakan untuk

- A. 
- B. 
- C. 
- D. 





15. Di antara berikut yang manakah lambang **forte** ?

- A. *f*
- B. #
- C. *p*
- D. b

16. Apakah nama not  ini ?


- A. Semi kuaver
- B. Minim
- C. Kuaver
- D. Semibrif

17. Not  sama nilai dengan

- A. 
- B. 
- C. 
- D. 


18. Not ini  bernilai

- A. 1
- B. 2
- C. 3
- D. 4

19. Apakah nama tanda kromat ini 

- A. Klef Bass
- B. Syap
- C. Flat
- D. Klef Trebel

20.



W


Kawasan yang bertanda W ialah

- A. Garis Bar
- B. Garis Tamat
- C. Bar
- D. Garis Ulang

Soalan 21-30

Nyatakan not-not berikut

21.



- A. Not A
- B. Not B
- C. Not C'
- D. Not D'

22.



- A. Not A
- B. Not B
- C. Not C'
- D. Not D'

23.




- A. Not A
- B. Not B
- C. Not C'
- D. Not D'

24.




- A. Not G
- B. Not F
- C. Not E
- D. Not D

25.




- A. Not D
- B. Not E
- C. Not F
- D. Not G

26.




- A. Not F'
- B. Not E'
- C. Not C'
- D. Not D'

27.



- A. Not E
- B. Not G
- C. Not B
- D. Not D'

28.



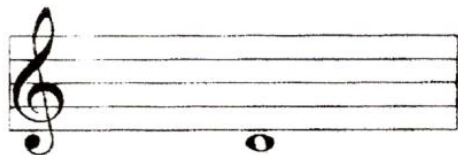
- A. Not A
- B. Not B
- C. Not C
- D. Not D'

29.



- A. Not C'
- B. Not D'
- C. Not E'
- D. Not F'

30.



- A. Not C
- B. Not D
- C. Not E
- D. Not F

Soalan 31-37

Nyatakan isyarat tangan Solfa di bawah

31.



- A. DO
- B. MI
- C. TI
- D. FA

32.



- A. SO
- B. RE
- C. TI
- D. FA

33.



- A. DO
- B. RE
- C. MI
- D. FA

34.



- A. DO
- B. RE
- C. MI
- D. FA

35.



- A. DO
- B. RE
- C. MI
- D. FA

36.



- A. SO
- B. LA
- C. TI
- D. DO

37.



- A. SO
- B. TI
- C. MI
- D. LA

Soalan 38- 40

Nyatakan penjarian not pada rekoder di bawah

38.



- A. Not A
- B. Not B
- C. Not C'
- D. Not D'

39.



- A. Not A
- B. Not B
- C. Not C'
- D. Not D'

40.



- A. Not A
- B. Not B
- C. Not C'
- D. Not D'

*****SELAMAT MENJAWAB*****

Disediakan oleh :
(EN. NADZRI ISMAWI B. NERUDIN)

Disemak oleh :
.....
(PN. MORNI BT YUSOFF)

