

SEKOLAH KEBANGSAAN TAMAN DUSUN NYIOR

70100 SEREMBAN

PEPERIKSAAN AKHIR TAHUN 2015

DUNIA MUZIK TAHUN 4

NAMA : _____ MARKAH: _____

TAHUN : _____

Arahan : **Pilih satu sahaja jawapan yang betul.**

Soalan 1 hingga 5 adalah berdasarkan seni kata lagu dibawah.

KATAK DAN ULAR

Saya sang katak mencari makan
Menunggu unggas di tepi kolam
Saya Sang Ular tetap menunggu
Sang Katak _____ (1) _____

Rebet! Rebet! Jangan datang!
Tak mungkin ular jadi kawan!
Ss...ss...ss...ss... hai Sang Katak
Bukankah itu _____ (4) _____

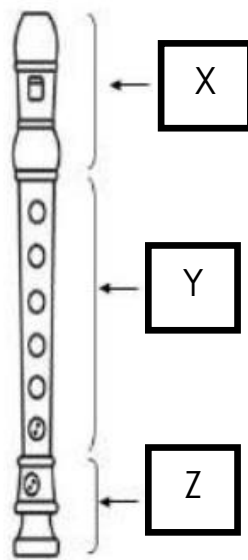
Sang Ular pergi kau
Baik ku _____ (2) _____
Hai Sang Katak ke mari
Janganlah cepat _____ (3) _____

Saya Sang Katak mencari makan
Menunggu unggas _____ (5) _____
Saya Sang Ular tetap menunggu
Sang Katak datang untuk di buru

- A datang untuk diburu B melompat-lompat
C datang untuk dimakan D berenang-renang
- A cepat menyorok B cepat lari
C cepat pergi D cepat jalan

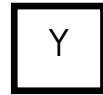
3. A cepat pergi B cepat melompat
C cepat datang D berenang-renang
4. A lumrah dunia B lumrah alam
C hidup di dunia D duniaku
5. A di dalam taman B di tepi longkang
C di tepi kolam D di atas pagar

Soalan 6 hingga 8 berdasarkan gambar rajah rekoder di bawah.



6. Apakah bahagian yang bertanda **X**
- A Bawah B Tengah
C Atas (pemipit) D Badan

7. Apakah bahagian yang bertanda



A Kaki

B Tengah

C Atas (pemipit)

D Badan

8. 6. Apakah bahagian yang bertanda



A Bawah

B Tangan

C Atas (pemipit)

D Badan

9. Diantara berikut yang manakah menunjukkan postur badan yang salah semasa meniup rekoder?

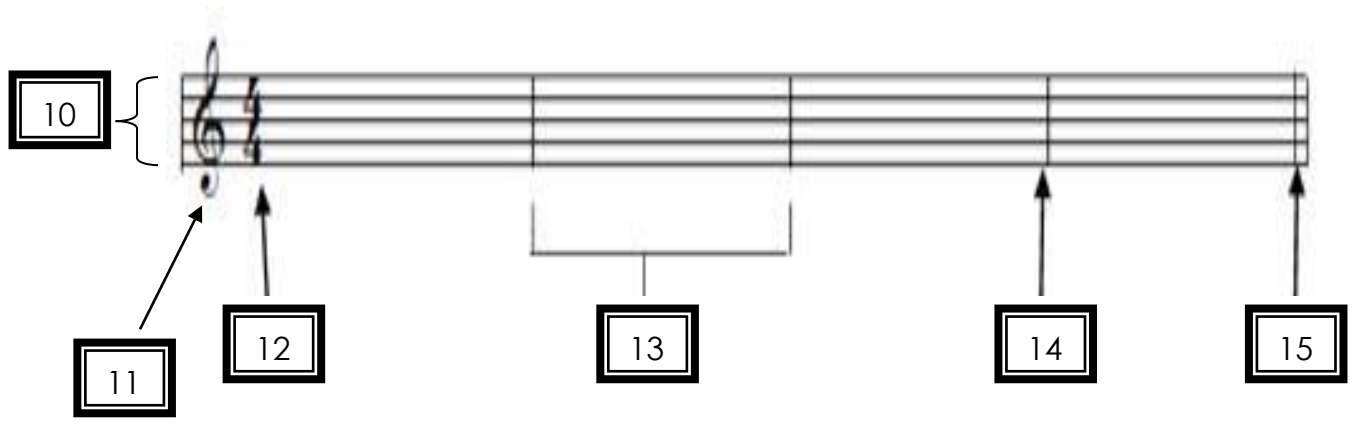
A Berdiri tegak, kaki di buka seluas bahu, tangan memegang rekoder dibahagian hadapan badan.

B Berdiri dengan sebelah kaki diletakkan di bahagian hadapan, rekoder dipegang di sisi kiri atau kanan badan, kepala di tundukkan ke bawah.

C Duduk di pertengahan bahagian hadapan kerusi, tangan memegang rekoder di bahagian hadapan badan.

D Rekoder di pegang di hadapan badan dengan kecondongan 45 darjah .

Soalan 10 hingga 15 berdasarkan gambarajah di bawah.



- 10. A Meter B Garisan baluk
C Klef trabel D Garisan penamat

- 11. A Bar B Garisan baluk
C Klef trabel D Meter

- 12. A Bar B Garisan baluk
C Meter D Garisan penamat

- 13. A Meter B Bar
C Klef trabel D Garisan penamat

- 14. A Meter B Garisan baluk
C Garis bar D Garisan penamat

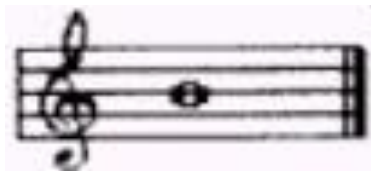
- 15. A Bar B Garisan baluk
C Meter D Garisan penamat

16. Apakah not yang di tunjukkan pada garisan baluk dibawah?




- | | | | |
|---|-------|---|-------|
| A | Not A | B | Not B |
| C | Not G | D | Not C |

17. Not pada garisan baluk di bawah ialah?



- | | | | |
|---|-------|---|-------|
| A | Not A | B | Not B |
| C | Not G | D | Not C |

18. Apakah not yang di tunjukkan pada garisan baluk dibawah?



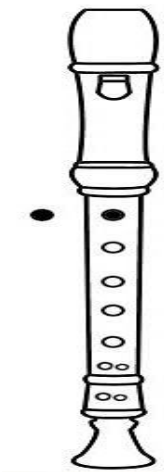
- | | | | |
|---|-------|---|--------|
| A | Not A | B | Not B |
| C | Not G | D | Not C' |



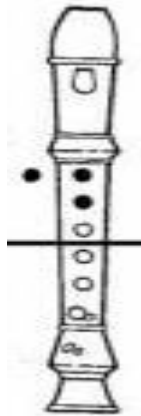
19. Berdasarkan skor di atas, antara sebutan irama berikut yang manakah betul?

- A ta, ti-ti, ta, sa ta, ti-ti, sa-a
- B ta, ta, ta, sa ta, ti-ti, ta
- C ta, ta, ta, ta, ta ta, sa-a, ta, ta
- D ti-ti, ta, ta, ta sa-a, ta, ta, ta

20. Apakah penjarian rekoder yang ditunjukkan oleh gambarajah di bawah?



- A Not A B Not B
- C Not G D Not C



21. Apakah penjarian not yang ditunjukkan oleh gambar rajah rekoder di atas?

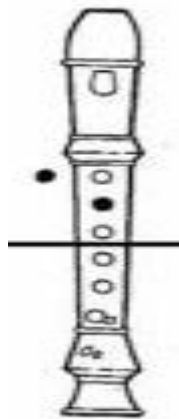
A Not A

B Not B

C Not G

D Not C

22. Gamba rajah rekoder di bawah menunjukkan penjarian not?



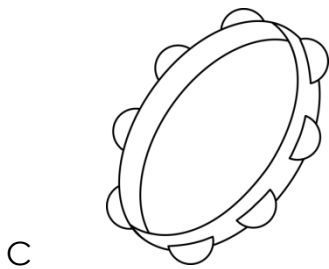
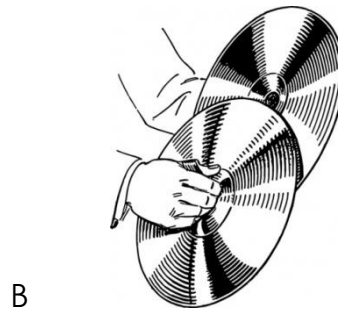

A Not A

B Not B

C Not G

D Not C'

23. Antara alat perkusi berikut, yang manakah sesuai digunakan untuk menghasilkan kesan bunyi bagi situasi 'bunyi guruh'?



24. Antara situasi di bawah yang manakah sesuai menggunakan alat perkusi di atas bagi menunjukkan kesan bunyi?

A Bunyi burung berkicau

B Bunyi air hujan menitis

C Bunyi guruh berdentum

D Bunyi ombak

25. Apakah nama bagi notasi ini?



A Semibrif

B Krocet

C Minim

D Kuaver

26. Apakah nama bagi notasi ini?





A Semibrif

B Krocet

C Minim

D Kuaver

27. Diantara berikut yang manakah merupakan not krocet?



28. Diantara berikut yang manakah merupakan not Kuaver ?



29. Nilai bagi not di bawah ialah?







- A 1 B 2 C 3 D 4

30. Nilai bagi not di bawah ialah?



- A 1 B 2 C 3 D 4

31. Diantara berikut yang manakah menunjukkan isyarat tangan solfa bagi 'FA'?

- A  B 
- C  C 

32. Apakah maksud bagi lambang dinamik di bawah?



- A Menyanyi dengan suara yang lembut.
- B Menyanyi dengan suara yang sederhana lembut .
- C Menyanyi dengan suara yang kuat.
- D Menyanyi dengan suara yang sederhana kuat .

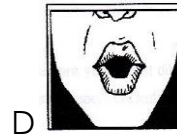
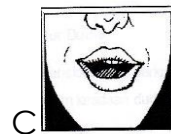
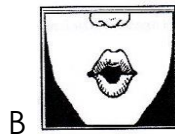
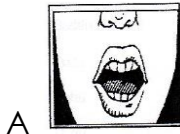
33. Apakah maksud bagi istilah muzik **legato**?

- A Menyanyi dengan sebutan lancar.
- B Menyanyi dengan menjerit.
- C Menyanyi dengan suara perlahan.
- D Menyanyi dengan bersemangat.

34. Apakah maksud bagi istilah muzik **staccato**?

- A Menyanyi dengan sebutan lancar.
- B Menyanyi dengan menjerit.
- C Menyanyi dengan sebutan yang pendek dan terputus-putus.
- D Menyanyi dengan bersemangat.

35. Diantara gambarajah berikut yang manakah menunjukkan teknik sebutan vokal 'a' yang betul ?



36. Berdasarkan gambarajah di bawah, alat muzik tersebut merupakan dalam golongan alat muzik?



A Alat muzik bertali

B Alat muzik tiupan berkayu

C Alat muzik Bras

D Alat muzik Perkusi

37. Antara berikut yang manakah merupakan persembahan alat muzik dari negara Jepun?

Sokyoku



A

Cak lem pong



B

Gendang Cina



C

Muzik klasik India



D

38. Apakah nama bagi alat muzik di bawah?



- A Keyboard B Gitar bes
C Konga D Set drum

39. Alat muzik di bawah ialah?



- A Geduk B Kompang
C Gendang D Serunai

40. Diantara berikut yang manakah merupakan alat muzik popular?



SOALAN TAMAT

Disediakan oleh,

.....

(NORSIAH BINTI BAHARIN)

Di sahkan oleh,

.....

(DATIN WAN SETIA NORLINA BINTI WAN HUSSIN)

GPK 1

SK TAMAN DUSUN NYIOR

**Sila ambil perhatian kemajuan pelajaran
anak tuan/puan .**

Tanda tangan:

Tarikh:

.....

.....

()