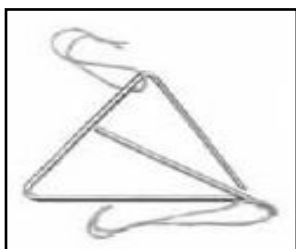


NAMA : .....

MARKAH/GRED :

JAWAB SEMUA SOALAN DENGAN MEMBULATKAN SATU JAWAPAN YANG PALING TEPAT SAHAJA



1. Apakah nama alat muzik di atas ?

- A. Tamborin
- B. Kastanet
- C. Loceng
- D. Kerincing

2. Alat muzik tersebut dimainkan dengan cara

- A. Ketuk
- B. Tepuk
- C. Goncang
- D. Petik

3. Alat Muzik di atas diperbuat daripada

- A. Kayu
- B. Kulit
- C. Getah
- D. Besi

4. Pilih pasangan yang betul.

- A. Kastanet ---- goncang
- B. Kerincing ---- tepuk
- C. Gitar ---- petik
- D. Kompang ---- gesek


5. Di mainkan secara

- A. Piano
- B. Rekoder
- C. Gitar
- D. Kompang

6. Kompang biasanya dimainkan semasa

- |                       |                        |
|-----------------------|------------------------|
| A. Majlis perkahwinan | B. Kematian            |
| C. Persembahan koir   | D. Nyanyian lagu rasmi |

Soalan 7 dan 8 adalah berpandukan rajah di bawah



7. Namakan alat muzik di sebelah.

- |             |              |
|-------------|--------------|
| A. Tamborin | B. Kerincing |
| C. Kastanet | D. Loceng    |

8. Alat muzik di atas biasanya dimainkan dengan cara

- |                       |                       |
|-----------------------|-----------------------|
| A. Ketuk atau tiup    | B. Tiup atau petik    |
| C. Goncang atau tepuk | D. Gesek atau goncang |

9. Berikut merupakan alat muzik tradisional **KECUALI**

- A. Rebana
- B. Kompang
- C. Rekoder
- D. Gong

10. Di antara berikut yang manakah merupakan alat muzik **bertali** ?

- |            |            |
|------------|------------|
| A. Piano   | B. Gitar   |
| C. Trumpet | D. Marakas |


11.

Berikut merupakan alat muzik tradisional **KECUALI**

12. A. Rebana  
B. Kompang  
C. Rekoder  
D. Gong

Di antara berikut yang manakah merupakan alat muzik **bertali** ?

13. Namakan alat muzik yang ditunjukkan dalam rajah di bawah
- |            |            |
|------------|------------|
| A. Piano   | B. Gitar   |
| C. Trumpet | D. Marakas |



- |          |          |
|----------|----------|
| A. Gitar | B. Kibod |
| C. Piano | D. Dram  |

14. Alat muzik di atas di mainkan dengan cara

- |            |            |
|------------|------------|
| A. Tiupan  | B. Gesekan |
| C. Pukulan | D. Tepukan |

9

15. Lagu rasmi Negeri Sarawak ialah .....

- |                      |                   |
|----------------------|-------------------|
| A. Negara Ku         | C. Ibu Pertiwi Ku |
| B. Melaka Bersejarah | D. Selamat Sultan |

A.) NYATAKAN TEMPO BAGI LAGU-LAGU DI BAWAH SAMA ADA CEPAT ATAU LAMBAT.


BIL	TAJUK LAGU	JENIS TEMPO
1.	IM4U	
2.	Gajah Dan Tikus Menari	
3.	Anak Kampung	
4.	'Negara Ku	
5.	Lassie	

B) SUAIKAN MUD MUZIK BERDASARKAN GAMBARAJAH DIBERI.


MARAH

RIANG

SEDIH



C. Suaikan alat muzik di bawah dengan cara bermain yang betul




Petik

**D. TANDAKAN (√) PADA NAMA ALAT MUZIK DI BAWAH.(4 markah)**



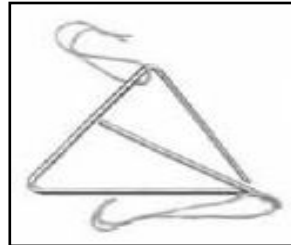
	Tamborin
	kastanet



	Gitar
	Kayu Tik Tok



	Loceng
	Gendang



	Kerincing
	Dram



	Cabasa
	Marakas



	Cabasa
	Angklung

E. LENGKAPKAN SENI KATA LAGU DI BAWAH DENGAN MENGGUNAKAN PERKATAAN YANG SESUAI.



TAJUK LAGU : " IM4U"

Im4u, Im4u , Im4u..... yeah !

Hanya untuk .....

Negara yang .....

Sentiasa ..... mu

Demi ..... Malaysia

Berganding ..... seia .....

Kita bersatu aman .....

Demi ..... tercinta

Ku korbankan .....

Demi ..... dan .....

Ku korbankan .....

I m for you uuu ,I m for u uuu

Im for u, Im for u uuuuuuu

I m for you uuu , I m for u uuu

Im for u , Im for u Im for u uuuuuuu

Kau di ..... ku sentiasa ..... ku

.....lah segalanya negara .....

Demi negara tercinta ku korbankan jiwa

Demi bangsa dan negara ku korbankan raga

I m for you uuu ,I m for u uuu

Im for u, Im for u uuuuuuu

I m for you uuu , I m for u uuu

Im for u , Im for u Im for u uuuuuuu



1. .... 2..... 3.....


**D.) TANDAKAN ( / ) PADA PERNYATAAN YANG BETUL DAN ( X )  
PADA PERNYATAAN YANG SALAH.**

1. Tempo ialah kelajuan dalam muzik . (    )
2. Susunan solfa 'Do Re Mi ' adalah pic bergerak secara menurun. (    )
3. Kayu Tik Tok diperbuat daripada plastik. (    )
4. Cara bermain dram ialah memalu dengan kayu pemukul. (    )
5. Mud sesebuah lagu menyampaikan lagu menyampaikan perasaan lagu tersebut. (    )
6. Kita dapat merasai detikm bunyi daripada bunyi titisan air paip. (    )
7. Contoh tempo lagu ialah cepat dan lambat. (    )
8. Kerincing berbentuk segi tiga . (    )
9. Mud bagi lagu ' Tanggal 31' ialah mud sedih . (    )
10.      Kompang merupakan alat muzik tradisional . (    )

**E. PADANKAN BUNYI YANG DIHASILKAN OLEH ALAT-ALAT MUZIK**







Ting! ting!



Tak! Tak!

D ) TULISKAN ARAS DAN PERGERAKAN PIC BERDASARKAN CONTOH RAJAH PIC YANG DIBERI.

PIC : aras sesuatubunyi sama ada tinggi atau rendah dalam sesebuah lagu atau muzik

Menaik dan menurun

Menurun

Menurun dan menaik

Menaik

Contoh rajah pic	Pergerakan pic

