

**Bahagian A (20 markah)**

**Bulatkan** jawapan yang betul.

- 'Tujuh belas' ditulis dalam angka ialah \_\_\_\_\_.  
A 7  
B 17  
C 71
- Antara yang berikut, yang manakah **betul**?  
A  $2 + 5 = 8$   
B  $9 + 3 = 23$   
C  $10 + 6 = 16$
- Nilai tempat** bagi digit bergaris dalam nombor 37 ialah \_\_\_\_\_.  
A sa  
B puluh  
C ratus
- 33** ditulis dalam perkataan ialah \_\_\_\_\_.  
A tiga tiga  
B tiga belas  
C tiga puluh tiga
- Bundarkan 22 kepada **puluh** yang terdekat.  
A 30  
B 25  
C 20
- $5 + 2 = \square$   
A 5  
B 7  
C 10
- $10 - 5 = \square$   
A 5  
B 6  
C 7
- Bulan **pertama** dalam sebuah kalendar ialah bulan \_\_\_\_\_.  
A April  
B Mei  
C Januari

9. Hari **ini** ialah hari **Rabu**. **Semalam** ialah hari \_\_\_\_\_.

- A Isnin
- B Selasa
- C Ahad

10. Bundarkan 68 kepada **puluh** yang terdekat.

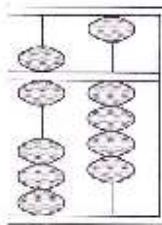
- A 60
- B 70
- C 80

11.  $\square + 7 = 13$

Apakah nombor dalam petak kosong?

- A 4
- B 6
- C 8

12.



Apakah nilai yang diwakili oleh abakus?

- A 14
- B 54
- C 64

13. Bilang lima-lima secara **menaik**. Nombor selepas 35 ialah \_\_\_\_\_.

- A 40
- B 30
- C 25

14. Yang manakah **benar**?

- A  $34 + 15 = 49$
- B  $42 + 28 = 60$
- C  $59 + 27 = 76$

15.  $16 - \square = 12$

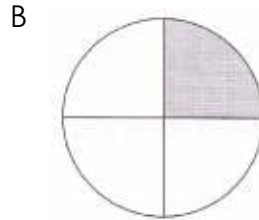

Apakah nilai di petak kosong?

- A 6
- B 5
- C 4

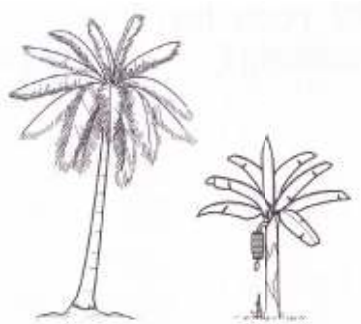
16. 'Separuh' sama erti dengan \_\_\_\_\_.

- A suku
- B satu
- C setengah

17. Antara rajah yang berikut, bahagian berlorek yang menunjukkan **suku** ialah



18.



Pokok pisang adalah lebih  daripada pokok kelapa.

- A panjang
- B tinggi
- C rendah

19. Di sebuah ladang ternakan terdapat 36 ekor ayam dan 28 ekor itik.

Berapakah **jumlah** bilangan ternakan di dalam ladang itu?

- A 54
- B 60
- C 64

20. Sebuah kotak berisi 20 biji limau. Sebuah guni berisi 35 biji limau. Kira **beza** bilangan limau di dalam kedua-dua bekas itu.

- A 55
- B 30
- C 15

## Bahagian B (30 markah)

1. Tulis 'tujuh puluh dua' dalam angka.

(1 markah)

2. Tuliskan nilai digit bagi nombor yang bergaris dibawah.

$$\underline{3}5 = \underline{\hspace{2cm}}$$

$$6\underline{7} = \underline{\hspace{2cm}}$$

(2 markah)

3. Bundarkan 21 kepada puluh yang terdekat.

(2 markah)

4.

<b>38</b>	<b>39</b>		<b>41</b>	
-----------	-----------	--	-----------	--

Tulis nombor yang tertinggal di atas

(2 markah)

5. Tambahkan 73 dan 12

(2 markah)

6.  $55 + 19 =$

(2 markah)

7.  $58 - 23 =$

(2 markah)

8. Tolakkan 48 daripada 92

(2 markah)

9.  $\text{RM}8 - \text{RM}3 =$

(2 markah)

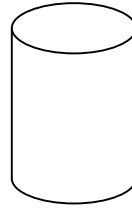
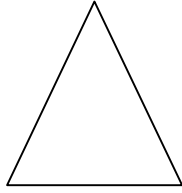
10.



Jam di atas menunjukkan pukul \_\_\_\_\_

(2 markah)

11. Namakan bentuk dibawah.



\_\_\_\_\_

\_\_\_\_\_

(2 markah)

12. Terdapat 24 biji epal dalam sebuah kotak. Salim beli 15 biji epal lagi.  
Berapakah biji epal kesemuanya?

(3 markah)

13. Nicholas ada 65 biji gula-gula. 22 biji daripadanya berperisa ceri dan selebihnya berperisa anggur. Berapakah bilangan gula-gula berperisa anggur?

(3 markah)

14. Sofia ada 6 buah buku latihan. Kakaknya mempunyai 3 buah buku latihan lebih daripadanya. Berapakah jumlah buku latihan mereka?

(3 markah)

~ SOALAN TAMAT ~