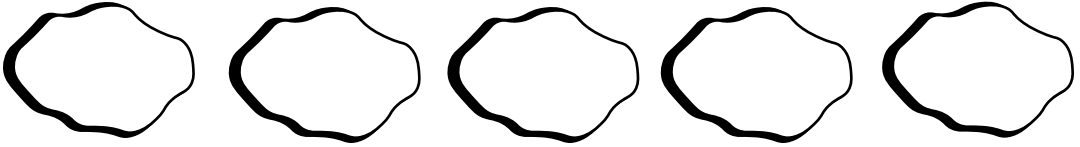
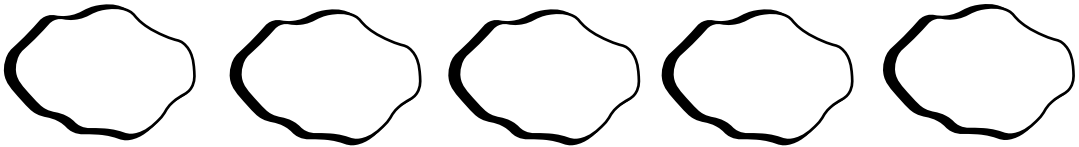


Tuliskan ayat matematik berdasarkan situasi berikut.

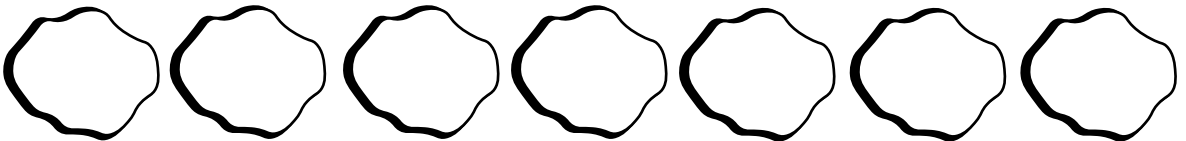
- a) Anum telah membuat 100 balang kuih. Dia telah menjual sebanyak 34 balang kuih atas permintaan pelanggannya. Berapakah bilangan balang kuih yang tinggal?




- b) Ayip membela 54 ekor ikan dan dia telah memasukkan 6 lagi ekor ikan yang baru ke dalam akuarium yang sama. Berapakah bilangan ikan yang ada dalam akuarium sekarang?



- c) Aliah mempunyai 29 biji guli. Abangnya telah mengambil 10 biji guli Aliah dan kawannya telah memberikan sebanyak 21 biji guli. Berapakah biji guli yang Aliah miliki sekarang?



- d) Sebuah buku mengandungi 40 muka surat dan Amir telah membaca sebanyak 21 muka surat. Berapakah bilangan muka surat yang belum dibaca oleh Amir?



Lengkapi ayat matematik di bawah.

a) $90 - \text{○} = 43$

g) $89 + \text{○} = 90$

b) $33 + \text{○} = 67$

h) $77 + \text{○} = 43$

c) $24 + \text{○} = 56$

i) $13 - \text{○} = 4$

d) $99 - \text{○} = 43$

j) $27 - \text{○} = 9$

e) $11 - \text{○} = 10$

k) $91 + \text{○} = 99$

f) $41 - \text{○} = 25$

l) $3 + \text{○} = 33$