


B. Jawap soalan-soalan di bawah.

1. Rajah di bawah menunjukkan sebuah robot yang sedang bergerak.



Tandakan (/) pada pernyataan yang betul.

Robot adalah benda bukan hidup.






Robot adalah benda hidup.

Robot memerlukan makanan dan minuman untuk kekal hidup.

Robot adalah benda bukan hidup walaupun robot boleh bergerak.

Robot adalah benda hidup kerana robot boleh bergerak.

2. (a) Susun perubahan pada benda hidup di bawah dan tuliskan nomor yang betul.



(b) Apakah ciri benda hidup yang ditunjukkan dalam rajah di atas?

Tandakan (/) pada pernyataan yang betul.

Benda hidup membesar.

Benda hidup membiak.