

**MODUL
PERKEMBANGAN PEMBELAJARAN
SPM 2019**

MPP 3

**SEJARAH
KERTAS 1**


NAMA :

KELAS :

DIBIYAI OLEH KERAJAAN NEGERI TERENGGANU

Tidak dibenarkan menyunting dan mencetak mana-mana bahagian dalam modul ini
tanpa kebenaran Pengarah Pendidikan Negeri Terengganu

- 1 Gambar 1 penting dalam perkembangan tamadun awal di Mesir.



Gambar 1: Pokok *Papyrus*

Apakah yang dapat dikaitkan dengan gambar tersebut?

- A Pengenalan sistem tulisan
 - B Pengamalan upacara ritual
 - C Peralatan memintal benang
 - D Peningkatan proses pertanian
- 2 Mengapakah masyarakat Lembah Indus membina bandar terancang seperti berikut?

- Mohenjo-Daro
- Harappa

- A Lokasi strategik
- B Penduduk ramai
- C Bidang geometri yang maju
- D Sumber alam yang banyak

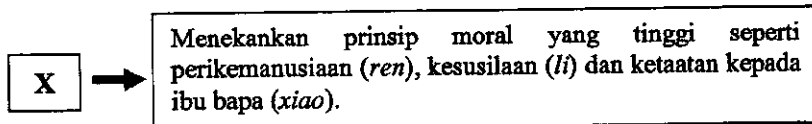
- 3 Gambar 2 berkaitan dengan seni bina dalam tamadun Rom.



Gambar 2 : Colloseum

Mengapakah pemimpin tamadun Rom membina bangunan tersebut?

- A Menyalurkan air bersih
 - B Memuja roh nenek moyang
 - C Melakukan upacara agama
 - D Mengadakan pertunjukan teater
- 4 Rajah 1 menunjukkan ajaran agama di dunia.



Rajah 1

Apakah ajaran X?

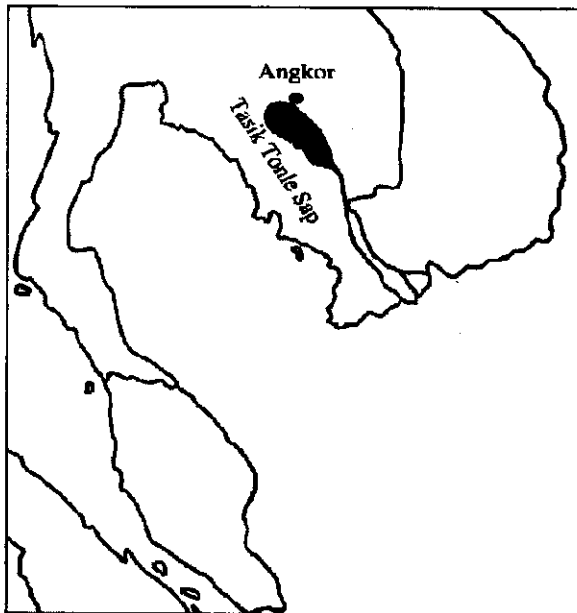
- A Taoisme
 - B Confucianisme
 - C Agama Hindu
 - D Agama Buddha
- 5 Kedua-dua kerajaan berikut terdapat dalam tamadun awal di Asia Tenggara.

- Langkasuka
- Srivijaya

Mengapakah kerajaan tersebut berjaya meneroka dunia luar?

- A Pusat latihan kelautan ditubuhkan
- B Mahir dalam pembinaan kapal
- C Kerajaan asing memberi bantuan
- D Kegiatan pertanian berkembang maju

- 6 Peta 1 berikut menunjukkan kedudukan Tasik Tonle Sap.



Peta 1

Mengapakah tasik tersebut penting kepada masyarakat sekitar?

- I Benteng keselamatan
- II Bekalan protein
- III Sumber pengairan
- IV Perdagangan antarabangsa

- A I dan II
- B I dan IV
- C II dan III
- D III dan IV

- 7 Mengapakah masyarakat Arab Jahiliah sering diserang oleh Rom dan Parsi?

- A Mencabuli perjanjian yang telah dimeterai
- B Mengamalkan penyembahan berhala
- C Tidak jujur dalam perniagaan
- D Hidup berpecah belah

- 8 Dialog yang mungkin berlaku dalam kalangan pemimpin Quraisy di Makkah pada zaman Jahiliah.

<p>Pemimpin A : Tawaran kita telah ditolak oleh Muhammad. Pemimpin B : Oleh itu tindakan tegas perlu diambil terhadap Muhammad.</p>
--

Berdasarkan dialog di atas, apakah tindakan yang diambil terhadap Nabi Muhammad SAW?

- A Mengenakan cukai yang tinggi
 B Memulaukan keluarga baginda
 C Menangkap saudara terdekat
 D Merampas harta benda
- 9 Tindakan berikut dilakukan oleh Nabi Muhammad SAW selepas Perang Badar berakhir.

- | |
|---|
| <ul style="list-style-type: none"> • Mengampunkan tawanan perang • Membebaskan tawanan wanita |
|---|

Apakah kesan daripada tindakan tersebut?

- A Suku yang bertelagah berdamai
 B Islam diterima dengan kerelaan
 C Kebebasan beragama diamalkan
 D Pengukuhan pentadbiran kerajaan Islam
- 10 Maklumat berikut berkaitan dengan Perjanjian Hudaibiyah.

Tahun	Peristiwa
630 Masihi	Pembunuhan beberapa orang Bani Khuza'ah yang berpihak kepada Islam

Apakah kesan peristiwa tersebut?

- A Kota Makkah dikuasai Islam
 B Penduduk Madinah berhijrah
 C Sistem kabilah dimansuhkan
 D Urusan perdagangan terjejas

- 11 Sistem wazarah telah diperkenalkan oleh kerajaan Bani Umayyah.

Bagaimanakah sistem tersebut dilaksanakan?

- A Urus setia menguruskan rekod kewangan
- B Wazir dilantik mengetuai pentadbiran
- C Pelbagai jabatan kerajaan ditubuhkan
- D Ulama dilantik menjadi pentadbir

- 12 Maklumat berikut berkaitan dengan tokoh pengembara Islam pada abad ke-14.

Tokoh	Keterangan
Ibn Battuta	Hasil tulisan beliau menjadi rujukan sejarawan hingga kini

Mengapakah tulisan beliau menjadi rujukan sehingga kini?

- A Ketepatan fakta
- B Keunikan ilustrasi
- C Keindahan bahasa
- D Kepelbagaian teknik

- 13 Kedatangan Islam ke Asia Tenggara telah mengubah sistem pemerintahan dan pentadbiran.

Apakah bukti pernyataan di atas?

- I *Amir* dilantik mentadbir wilayah
- II Institusi kesultanan diperkenalkan
- III Undang-undang syariah dilaksanakan
- IV Jawatan tradisional dimansuhkan

- A I dan II
- B I dan IV
- C II dan III
- D III dan IV

- 14 Perkara yang manakah menunjukkan kedatangan Islam ke Asia Tenggara mempengaruhi cara hidup masyarakat tempatan?

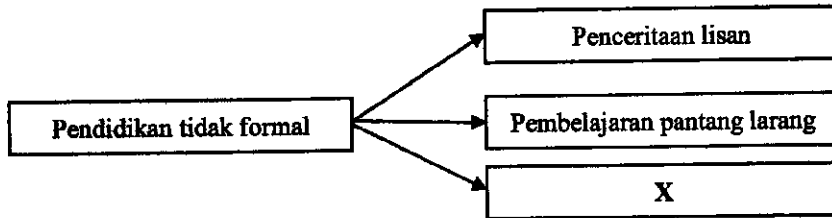
- A Adat persandingan
- B Amalan bersemah
- C Cara bercucuk tanam
- D Persaudaraan ummah

- 15 Konsep daulat merupakan pengikat yang kuat antara rakyat biasa dengan pemerintah dalam masyarakat Melayu tradisional.

Bagaimanakah konsep tersebut diperkukuh?

- A Memantapkan adat istiadat
- B Melalui pendidikan formal
- C Menjalinkan hubungan luar
- D Menggunakan kekuatan tentera

- 16 Rajah 2 menerangkan kaedah pendidikan dalam masyarakat Melayu tradisional.



Rajah 2

Apakah X?

- A Mengadap guru
 - B Menerusi pantun
 - C Pembacaan kitab
 - D Pengajian sekolah pondok
- 17 Akta Antipenggabungan (Anti-Combination Act) diperkenalkan di Britian pada peringkat awal Revolusi Perindustrian.
- Akta tersebut menyebabkan
- A buruh asing dilarang bekerja
 - B gaji pekerja tidak meningkat
 - C harga barang berkurangan
 - D wanita dilarang bekerja di kilang

- 18 Dialog berikut menggambarkan situasi di Eropah pada tahun 1810 ketika Revolusi Perindustrian.

James : Mesin dalam industri pembuatan stoking telah merugikan kita semua.

Wales : Ya, saya setuju. Kita sebagai tukang jahit mesti memusnahkan mesin mesin pimidang dan melakukan protes.

Kegiatan memprotes ini dikenali sebagai

- A Akta Parlimen
 - B Gerakan Protesting
 - C Pergerakan Luddite
 - D Counter Reformation
- 19 Kejatuhan harga getah menyebabkan British memperkenalkan Rancangan Sekatan Stevenson pada tahun 1922.

Bagaimanakah rancangan tersebut dapat mengatasi kejatuhan harga getah?

- A Pengeluaran getah dihadkan
 - B Peningkatan mutu getah asli
 - C Penggunaan getah dipelbagai
 - D Penawaran getah tiruan dilarang
- 20 Sanitary Board ditubuhkan pada tahun 1980-an di Bandar Kuala Lumpur.

Sanitary Board berperanan sebagai

- A membekalkan air bersih
 - B mengatasi penyakit berjangkit
 - C mengawasi kebersihan dan kesihatan
 - D menyelenggara pusat kesihatan kecil
- 21 Pembukaan Terusan Suez di Mesir telah dibuka pada tahun 1869.

Apakah kesan pembukaan terusan tersebut terhadap dasar imperialisme barat?

- A Mengukuhkan ekonomi tanah jajahan
- B Menggalakkan revolusi pertanian
- C Membolehkan penyebaran propaganda
- D Memendekkan jarak perjalanan Barat dan Timur

- 22 Gambar 3 menunjukkan seorang tokoh di India.



Gambar 3 : *Mahatma Ghandi*

Mengapakah tokoh tersebut menjadi inspirasi kepada nasionalis di negara-negara Asia Tenggara?

- A Memberi bantuan ketenteraan
 B Mengamalkan sikap sederhana
 C Bekerjasama dengan pihak penjajah
 D Menentang penjajah secara kekerasan
- 23 Jadual 1 berikut berkaitan dengan tokoh perjuangan yang terdapat di negara kita.

Tokoh	Negeri
Tok Janggut	Kelantan
Haji Abdul Rahman Limbong	Terengganu

Jadual 1

Apakah persamaan perjuangan kedua-dua tokoh tersebut?

- A Mengingkari arahan menghantar ufti
 B Menentang perubahan sempadan daerah
 C Membantah pelaksanaan sistem cukai
 D Menolak campur tangan penjajah dalam adat resam
- 24 Senarai berikut adalah novel yang diterbitkan sebelum Perang Dunia Kedua di Tanah Melayu.

- | |
|---|
| <ul style="list-style-type: none"> • Keris Melaka • Anak Mat Lela Gila • Putera Gunung Tahan |
|---|

Apakah mesej yang disampaikan oleh pengarang dalam novel tersebut?

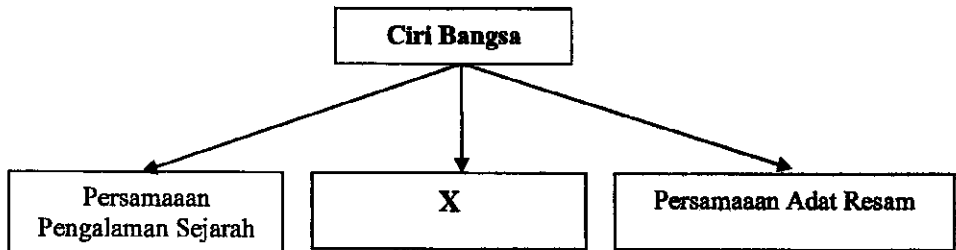
- A Menggalakkan budaya membaca
 B Mewujudkan perpaduan kaum
 C Menghargai warisan tamadun
 D Membela maruah bangsa

- 25 Senarai berikut berkaitan dengan sistem pendidikan yang diterima oleh orang Melayu pada akhir abad ke-19.

- Sistem Pendidikan Inggeris
- Sekolah Vernakular Melayu

Apakah kesan sistem pendidikan tersebut terhadap orang Melayu?

- A Memusnahkan pendidikan agama
 - B Melahirkan golongan intelek Melayu
 - C Mengurangkan pengaruh dari negara luar
 - D Melemahkan semangat perpaduan orang Melayu
- 26 Rajah 3 menerangkan ciri sesuatu bangsa.



Rajah 3

Apakah X?

- A Persamaan bahasa
 - B Persamaan kepercayaan
 - C Persamaan falsafah hidup
 - D Persamaan ideologi politik
- 27 Peranan Buapak dalam sistem pemerintahan yang berasaskan Adat Papatih di Negeri Sembilan adalah
- I menasihati Undang
 - II memimpin Suku
 - III mengetuai Perut
 - IV melantik Lembaga
- A I dan II
 - B I dan IV
 - C II dan III
 - D III dan IV

- 28 Perjanjian Persekutuan Tanah Melayu 1948 merupakan *Kontrak sosial* antara British dan Raja- Raja Melayu.

Apakah intipati yang terkandung dalam perjanjian tersebut?

- A Pesuruhjaya Negeri dikekalkan
- B Pembentukan kerajaan republik
- C Perketatkan syarat kerakyatan
- D Pengaruh golongan radikal dihapuskan

- 29 Persatuan berikut telah terkubur pada tahun 1951 di negeri Sabah.

- | |
|--|
| <ul style="list-style-type: none">• Persatuan Kebangsaan Melayu Labuan (PKML)• Persatuan Melayu Jasseltan (PMJ) |
|--|

Mengapakah persatuan di atas tidak menonjol?

- A Masalah kewangan
- B Halangan daripada pemerintah
- C Kelemahan sistem perhubungan
- D Perbezaan sosial kumpulan etnik

- 30 Sistem Ahli diperkenalkan di Tanah Melayu pada tahun 1951.

Bagaimanakah sistem tersebut dapat memperkukuh perpaduan rakyat?

- A Ahli dilantik dalam kalangan pelbagai kaum
- B Ahli dipantau oleh suruhanjaya bebas
- C Undang-undang antiperkauman digubal
- D Mewajibkan penggunaan bahasa kebangsaan

- 31 Pada tahun 1951, Dato Onn bin Jaafar mencadangkan agar keahlian UMNO dibuka kepada orang bukan Melayu.

Mengapakah beliau bertindak demikian?

- A Memantapkan pentadbiran kerajaan
- B Mengiktiraf peranan kaum imigran
- C Memperkuatkan organisasi parti
- D Memperkukuh perpaduan

- 32 Mengapakah penduduk Sarawak dan Sabah menolak cadangan pembentukan Malaysia pada peringkat awal?
- A Menghormati keputusan pemerintah tempatan
 - B Mempertahan kepentingan pembesar setempat
 - C Mengelakkan ancaman tentera Filipina
 - D Mengekalkan pentadbiran British
- 33 Indonesia melancarkan kempen Ganyang Malaysia pada tahun 1963 kerana
- A menguji kekuatan senjata
 - B mempertahankan wilayah asal
 - C desakan pemimpin komunis
 - D hasutan penjajah Belanda
- 34 Jadual 2 menerangkan sistem pemerintahan dua buah negara di Asia Tenggara.

Negara	Sistem Pemerintahan
Malaysia	Demokrasi Berparlimen
Indonesia	Republik

Jadual 2

Apakah persamaan sistem pemerintahan tersebut?

- A Pilihan raya diadakan untuk memilih pemimpin
 - B Pentadbiran dijalankan oleh golongan bangsawan
 - C Perdana Menteri berkuasa membubarkan parlimen
 - D Dewan Perhimpunan bersidang setiap tiga bulan
- 35 Antara yang berikut, yang manakah bidang kuasa Kerajaan Persekutuan?
- A Perhutanan
 - B Hiburan awam
 - C Keselamatan dalam negeri
 - D Perkhidmatan tempatan
- 36 Apakah maksud lambang bulan sabit berwarna kuning dalam Jata Negara?
- A Hak istimewa Melayu
 - B Islam agama rasmi
 - C Kedaulatan raja
 - D Perpaduan kaum

Pada tahun 1959, Pak Mail bercadang untuk berpindah dari kampungnya yang serba kekurangan dan mendapatkan petempatan baru yang disediakan oleh kerajaan. Beliau ingin mengusahakan tanaman pisang dan kelapa di atas tanah yang diperolehnya nanti, namun Pak Mail juga menghadapi masalah kekurangan modal.

37 Antara berikut, agensi manakah yang boleh membantu Pak Mail menyelesaikan masalahnya?

- I Lembaga Pembangunan Industri Desa (RIDA)
 - II Lembaga Kemajuan Tanah Persekutuan (FELDA)
 - III Lembaga Pemasaran Pertanian Persekutuan (FAMA)
 - IV Lembaga Pemulihan dan Penyatuan Tanah Negara (FELCRA)
-
- A I dan II
 - B I dan IV
 - C II dan III
 - D III dan IV

38 Rajah 4 berikut merupakan sebahagian daripada dasar yang telah dilaksanakan dalam Rancangan Malaysia ke-4.

- Dasar Penswastaan
- Dasar Persyarikatan Malaysia

Rajah 4

Apakah persamaan yang terdapat pada kedua-dua dasar tersebut?

- A Meningkatkan pendapatan sektor swasta
- B Membangunkan sektor pertanian
- C Menggalakkan pelaburan asing
- D Melibatkan sektor swasta

- 39 Maklumat berikut merujuk kerjasama negara-negara anggota Komanwel.

Tempat	Peristiwa	Tahun
Langkawi	Mesyuarat Ketua-Ketua Kerajaan Komanwel (CHOGM)	1989

Antara berikut, yang manakah berkaitan dengan peristiwa tersebut?

- A Pengisytiharan Deklarasi Langkawi
 - B Perjanjian Pertahanan Malaysia-Britain
 - C Pemansuhan Liga Bangsa
 - D Penubuhan Bank Dunia
- 40 Projek Koridor Raya Multimedia bermatlamat
- A melahirkan masyarakat madani
 - B mewujudkan masyarakat berinovatif
 - C menjadikan masyarakat lebih kreatif
 - D menjadikan masyarakat bermaklumat

KERTAS SOALAN TAMAT