

BAHAGIAN A : SOALAN OBJEKTIF

1 Apakah faktor governan yang mempengaruhi sektor pembuatan di Malaysia?

- A Kuasa beli yang tinggi
- B Kemasukan tenaga kerja asing
- C Bekalan bahan mentah yang banyak
- D Mewartakan zon perdagangan bebas

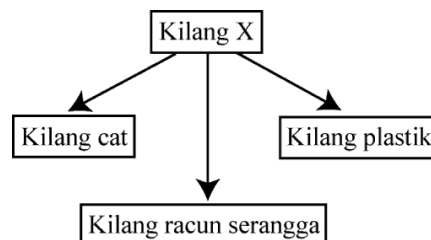
2 Kilang manakah yang berkaitan dengan industri berasaskan sumber?

- A Kilang pendingin hawa
- B Kilang elektronik
- C Kilang tayar
- D Kilang cat

- 3
- | |
|--|
| <ul style="list-style-type: none"> • Perai • Kuantan |
|--|

Faktor utama yang meningkatkan perkembangan pusat perindustrian dalam senarai di atas ialah

- A mudah memperoleh bahan mentah
- B berdekatan dengan pelabuhan
- C dasar governan
- D sistem pengangkutan yang pesat



4 Berdasarkan rajah di atas, kilang X merujuk kepada kilang

- A menapis petroleum
- B memproses kelapa sawit
- C melebur mineral logam
- D memproses getah

5 Faktor terpenting yang menggalakkan pembangunan industri pembuatan di Malaysia ialah

- I bantuan modal tinggi
- II tenaga buruh ramai
- III galakan kerajaan
- IV banyak bekalan sumber

- A I dan II
- B II dan III
- C III dan IV
- D I dan IV

6



Foto 1

Foto 1 di atas dikaitkan dengan

- A Ekopelancongan
- B Pelancongan bertema
- C Pelancongan budaya dan warisan
- D Pelancongan sukan dan rekreasi

- Taman Negara Endau-Rompin
- Pulau Tioman

7 Apakah jenis pelancongan yang dapat dikaitkan dengan maklumat yang di atas?

- A Ekopelancongan
- B Pelancongan bertema
- C Pelancongan budaya dan warisan
- D Pelancongan sukan dan rekreasi

- Pelbagai jenis buah-buahan
- Inap Desa perkampungan nelayan

8 Maklumat di atas dikaitkan dengan

- A Ekopelancongan
- B Pelancongan bertema
- C Agropelancongan
- D Pelancongan ekologi




Foto 1

- 9 Foto 1 di atas dikaitkan dengan
- A Ekopelancongan
 - B Pelancongan bertema
 - C Pelancongan budaya dan warisan
 - D Pelancongan sukan dan rekreasi
- 10 Apakah sumbangan industri pelancongan kepada penduduk tempatan?
- I Menyediakan peluang pekerjaan
 - II Meningkatkan IKS
 - III Menambah pendapatan negara
 - IV Perkembangan kebudayaan
- A I dan II
 - B I dan IV
 - C II dan III
 - D III dan IV

BAHAGIAN B : KEMAHIRAN GEOGRAFI

Soalan 1 hingga soalan 5 berdasarkan peta topo siri 2280/2/2013. Kaji peta ini dengan teliti sebelum menjawab soalan berikut.

1 (a) Berapakah bearing tokong Kg.Sejati RG084889 dari jambatan kayu RG133869

..... [2 markah]

(b) Nyatakan rujukan grid 6 angka klinik Mutiara Jaya di bahagian barat peta

..... [2 markah]

2 (a) Nyatakan skala yang terdapat dalam peta .

..... [1 markah]


(b) Berikan dua ciri budaya yang terdapat di segi empat grid RG0589.

(i)

(ii)

[2 markah]

3 (a) Nyatakan pola petempatan yang terdapat dalam segi empat grid di bawah.



..... [1 markah]

(b) Berikan tiga faktor yang mempengaruhi pola petempatan di 3(a)

(i)

(ii)

(iii)

[3 markah]

4 (a) Nyatakan tiga fungsi Bandar Nilam Utama (RG0580)

(i)

(ii)

(iii)

[3 markah]

Berikan tiga kepentingan hutan di timur laut peta

(b)

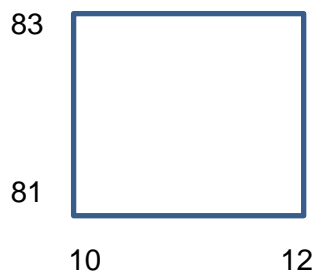
(i)

(ii)

(iii)

[3 markah]

5 (a) Soalan berdasarkan segi empat grid di bawah.



Sebagai pengurus Ladang Setia Jaya, anda telah merancang untuk memajukan kawasan ini dengan beberapa projek. Kemukakan empat cadangan anda untuk dilaksanakan di sini dengan mengambil kira kepentingan menjaga alam sekitar,

(i)

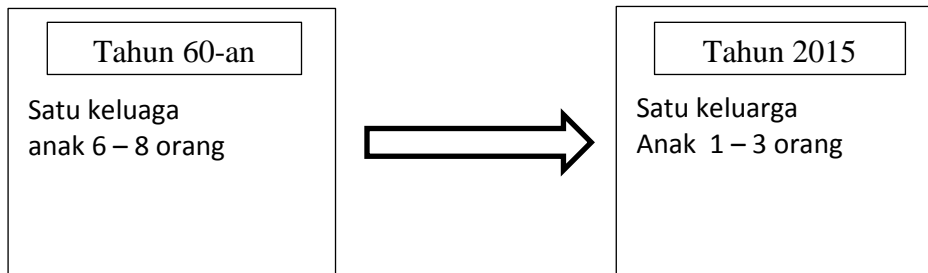
(ii)

(iii)

[3 markah]

BAHAGIAN C : STRUKTUR

Jadual di bawah menunjukkan perbezaan kadar kelahiran pada tahun 60 an dan tahun 2016.



a) Mengapakah berlakunya perubahan di atas?

- I.
- II.

[2 markah]

b) Terangkan kesan fenomena di atas kepada Malaysia pada masa hadapan.

- i.
- ii.
- iii.

[3 markah]

c) Cadangkan langkah untuk menangani masalah di atas daripada terus berlaku kepada negara Malaysia.

- i.
- ii.
- iii.

[3 markah]

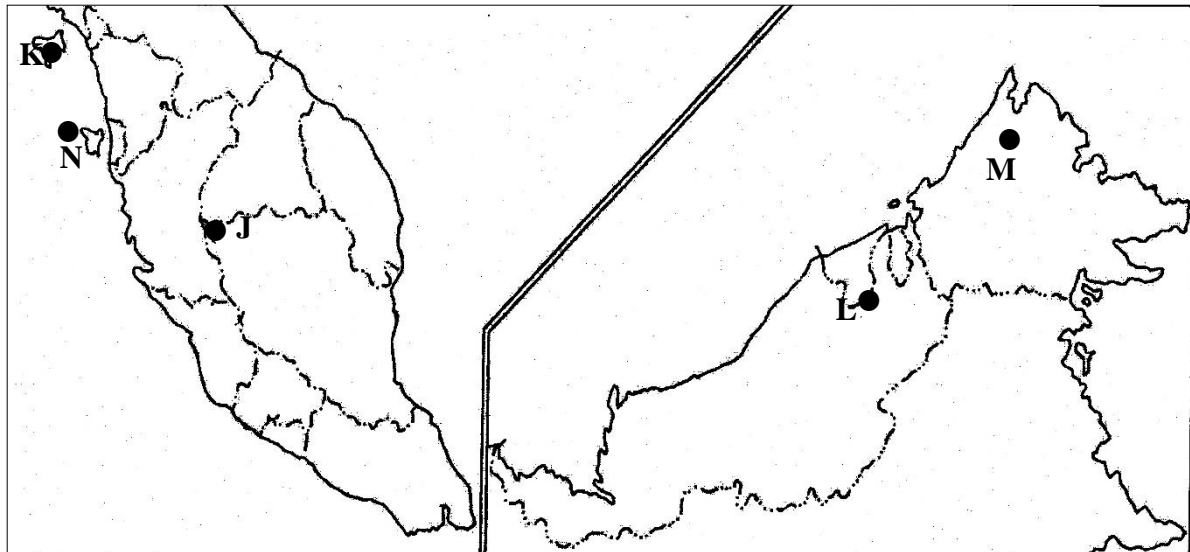
d) Kemukakan 2 sebab ,mengapakah negara kita ingin mencapai sasaran 70 juta penduduk .

- i.
- ii.

[2 markah]

BAHAGIAN D : ESEI

Bab 11 : Sektor Perkhidmatan



Peta 1

2. a. Di atas peta No. 1 Malaysia, namakan pusat pelancongan yang bertanda: [5 markah]

Pusat Pelancongan			
J	Gunung:	M	Gunung:
K	Pulau:	N	Pulau:
L	Gua:		

- b. Senaraikan sumbangan aktiviti pelancongan kepada pembangunan negara kita Malaysia. [5 markah]
- c. Huraikan kesan aktiviti pelancongan ekologi kepada kemapanan alam sekitar di Pantai Barat Semenanjung Malaysia. [6 markah]
- d. **Pelancongan banyak memberikan kesan kepada Kelestarian Alam Sekitar.**

Jelaskan langkah-langkah yang telah diambil untuk mengatasi isu alam sekitar akibat aktiviti pelancongan. [4 markah]

JAWAPAN MODUL HALUS SET 7

BAHAGIAN A : SOALAN OBJEKTIF

1. D
2. C
3. B
4. A
5. C
6. D
7. A
8. C
9. C
10. A

BAHAGIAN B : KEMAHIRAN

- 1 (a) **284°** [2 markah]
Sekiranya calon menjawab 283° atau 285° [1 markah]
- (b) **RG063852** [2 markah]
- 2 (a) **1cm mewakili 0.5 KM** [1 markah]
- (b) .
- **Jalan raya**
- **Petempatan**
- **Pokok kelapa sawit**
- **Laluan Pejalan Kaki**
- **Jambatan Batu**
- **Talian Penghantar Elektrik**
- **Getah** [2 markah]
- 3 (a) **Pola petempatan berselerak** [1 markah]
- (b) - **Tanah beralun**
- **Tanah hak milik persendirian**
- **Terdapat tanaman getah/kelapa sawit** [3 markah]
- 4 (a) - **F1 Pusat Pengangkutan**
- **Pusat Petempatan**
- **Pusat Pentadbiran**
- **Pusat Kesihatan**
- **Pusat Keselamatan**
- **Pusat Pendidikan** [3 markah]

- (b) - **Habitat flora**
- **Habitat Fauna**
- **Kawasan Tadahan Hujan**
- **Membekalkan oksigen**
- **Menyerap karbon dioksida**
- **Menyederhanakan suhu**

Mana-mana jawapan yang munasabah

[3 markah]

- 5 (a) - **Peternakan haiwan/kambing/lembu/biri-biri**
- **Ladang/kebun buah-buahan**
 - **Kawasan rekreasi**
 - **Petempatan**

[3 markah]

BAHAGIAN C : STRUKTUR

- a) - kadar kelahiran rendah / kesuburan rendah
- wanita mementingkan kerjaya
 - kos sara hidup meningkat
 - kahwin lewat
 - taraf hidup tinggi
 - amalan perancangan keluarga
 - taraf pendidikan tinggi

[2 markah]

- b) - kekurangan tenaga buruh
- pasaran barangan terhad
 - pembangunan ekonomi perlahan
 - sumber tidak dapat diterokai sepenuhnya
 - upah tinggi / mahal
 - persaingan pekerjaan dengan buruh asing

[3 markah]

- c) - menaikkan kadar upah
- menggalakkan migrasi masuk
 - mewujudkan peluang pekerjaan
 - menggalakkan kelahiran
 - berkahwin awal
 - meningkat usia persaraan
 - tidak mengamalkan amalan perancangan keluarga
 - melatih tenaga buruh

[3 markah]

- d)- keselamatan negara / ketenteraan
- memajukan sektor perindustrian
 - meningkatkan taraf hidup rakyat
 - meningkatkan pendapatan negara
 - pasaran barangan yang lebih luas
 - mengelakkan kekebergantungan kepada buruh asing
 - sumber dapat dieksplotasi dengan sepenuhnya

[2 markah]

BAHAGIAN D : SOALAN ESEI

- a
- J** Gunung: Cameron Highland
 - K** Pulau: Langkawi
 - L** Gua: Mulu
 - M** Gunung Kinabalu
 - N** Pulau Pinang
- [5 markah]
- b.
- Perkembangan sistem pengangkutan – jalan raya
 - Meningkatkan taraf hidup/mengurangkan kemiskinan
 - Mewujudkan peluang pekerjaan
 - Mengatasi masalah pengangguran
 - Sumber pendapatan negara
 - Meningkatkan kadar tukaran wang asing
 - Kemudahan awam bertambah -
- [5 markah]
- c.
- Kemusnahan flora dan Fauna
 - Kemusnahan habitat flora dan fauna
 - Pencemaran air – sisa buangan hotel
 - Suhu akan meningkat
 - Karbon dioksida bertambah
 - Oksigen berkurang
 - Tanah runtuh
 - Banjir kilat
 - Hakisan tanah – akibat pembinaan hotel di tanah tinggi
- [6 markah]
- d.
- Menguatkuasakan undang-undang
 - Pendidikan Alam Sekitar
 - Kempen – Cintailah Sungai Kita, Pelihara Alam Sekitar
 - Mewartakan Taman Laut
 - Merawat sisa kumbahan sebelum dialirkan ke sungai
 - Memasang perangkap sampah di kawasan sungai
 - Mewujudkan hutan simpan kekal dan Taman Negara.
 - Penghutan semula – pokok yang cepat tumbuh dan membesar
 - R & D – peranan FRIM perlu ditingkatkan
- [4 markah]