

**PEPERIKSAAN PERCUBAAN SIJIL PELAJARAN MALAYSIA 2017**  
**SEJARAH (set 1 )**  
KERTAS 1  
OGOS  
1jam

**1249/1**

**JANGAN BUKA KERTAS PEPERIKSAAN INI SEHINGGA DIBERITAHU**

1. Kertas peperiksaan ini mengandungi 40 soalan
2. Jawab **semua** soalan
3. Tiap-tiap soalan diikuti empat pilihan jawapan iaitu **A, B, C** dan **D**. Bagi setiap soalan, pilih **satu** jawapan sahaja. **Hitamkan** jawapan anda pada kertas jawapan objektif yang disediakan.
4. Jika anda hendak menukar jawapan. Padamkan tanda yang telah dibuat. Kemudian hitamkan jawapan yang baharu

1 Antara yang berikut, yang manakah sumbangan tamadun Mesir Purba?

- I** Kolar kuda
- II** Pedati beroda
- III** Sistem kalendar
- IV** Tulisan hieroglif
- A** I dan II
- B** I dan IV
- C** II dan III
- D** III dan IV

2 Perkembangan yang pesat dalam perancangan bandar berlaku pada sekitar tahun 2000 S.M dalam tamadun Indus. Apakah faktor yang mendorong perkembangan tersebut?

- A** Kemahiran ilmu geometri
- B** Kejayaan kegiatan penerokaan
- C** Keluasan kawasan pemerintahan
- D** Kegiatan keagamaan

3 Maklumat berikut merujuk kepada binaan

- Berbentuk kubah
- Siap semasa Maharaja Flavian
- Tempat pertarungan pahlawan

- A** Pantheon
- B** Aqueduct
- C** Acropolis
- D** Colloseum

4 Andaikan anda seorang ahli Dewan Senat dalam sistem republik di Rom pada tahun 509 S.M. Apakah tugas anda?

- A** Merangka undang-undang
- B** Mencadang dasar kerajaan
- C** Melantik pegawai pentadbir
- D** Mengatur strategi ketenteraan

5 Apakah faktor yang menyebabkan kerajaan Angkor menjadi sebuah kerajaan yang ulung di Asia Tenggara?

- I** Perancangan bandar teratur
- II** Terlindung daripada bencana alam
- III** Berhampiran Tasik Tonle Sap
- IV** Iklim sesuai untuk pertanian

- A** I dan II
- B** I dan IV
- C** II dan III
- D** III dan IV

6 Senarai berikut merujuk kepada hasil kesusasteraan di Asia Tenggara. Apakah yang dapat disimpulkan berkaitan dengan hasil kesusasteraan tersebut?

- Negarakertagama
- Hikayat Pendawa Lima

- A** Dipengaruhi unsur India
- B** Ditulis golongan pendeta
- C** Diminati para bangsawan
- D** Dijadikan dasar perundangan

7 Dialog berikut di atas mungkin berlaku di antara pemimpin Quraisy di Makkah. Apakah kesannya terhadap Nabi Muhammad SAW?

Pemimpin 1 : Kita perlu menentang Muhammad habis-habisan kerana dia menggugat kedudukan kita sebagai pemimpin.

Pemimpin 2 : Ya, tambahan pula ajarannya bertentangan dengan amalan nenek moyang kita.

- A** Penyebaran Islam tersekat
- B** Perjanjian damai tersekat
- C** Penghijrahan baginda ke Habsyah
- D** Pemulauan terhadap keluarga baginda

8 Mengapakah Perang Al-Basus berlaku selama 40 tahun di Tanah Arab pada Zaman Jahiliah?

- A** Perebutan sumber air
- B** Pelanggaran syarat perjanjian
- C** Menuntut pembebasan tawanan
- D** Mengamalkan semangat assabiah

- 9 Jadual berikut berkaitan dengan peperangan yang berlaku antara orang Islam dengan pihak Quraisy Makkah.

Apakah strategi Nabi Muhammad SAW dalam peperangan tersebut ?

Tahun	Peristiwa
627 Masihi	Perang Khandak

- A Menggali parit
- B Perang gerila
- C Serang hendap
- D Membina tembok

- 10 Apakah kepentingan peristiwa berikut terhadap kerajaan Islam Madinah?

Tahun	Peristiwa
630 Masihi	Nabi Muhammad SAW membuka semula kota Makkah

- A Meningkatkan kemajuan ekonomi
- B Penerusan sistem kabilah
- C Memperkukuh negara
- D Pertambahan penduduk

- 11 Bagaimanakah Khalifah Uthman b Affan r.a. berjaya meluaskan wilayah Islam?

- A Semangat jihad dipupuk
- B Armada laut diperkukuh
- C Perkahwinan politik digalakkan
- D Perjanjian dengan pemimpin tempatan dimeterai

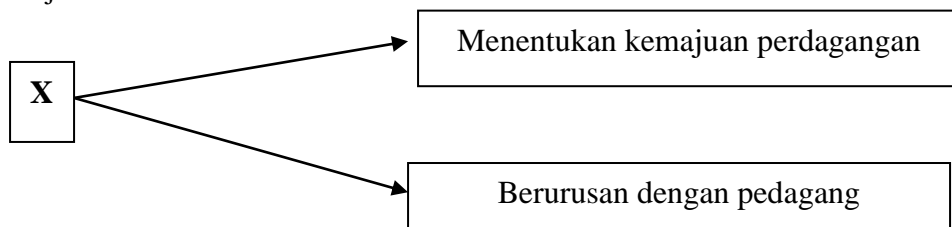
- 12 Berdasarkan maklumat berikut, apakah kesimpulan yang dapat dibuat?

Istilah	Maksud
Mudejar	Orang Islam setempat yang tinggal dalam kawasan pemerintahan orang Kristian
Mozarab	Golongan tempatan yang beragama Kristian yang mengamalkan kebudayaan Islam

- A Kebudayaan Islam mempengaruhi kehidupan masyarakat
- B Bahasa Arab digunakan oleh sebahagian masyarakat
- C Perkembangan ilmu pengetahuan meluas di Eropah
- D Perluasan kawasan penaklukan Islam

- 13 Mengapakah Sultan Mansur Shah menghantar kitab al-Dur al-Manzum ke Samudera-Pasai?
- A Untuk dibahaskan
  - B Sebagai mas kahwin
  - C Untuk diterjemahkan
  - D Sebagai tanda persahabatan
- 14 Apakah kriteria penganugerahan jawatan syahbandar kepada seseorang pedagang Islam di sesebuah pelabuhan di Asia Tenggara?
- A Mentaati pemerintah
  - B Mahir berniaga
  - C Bersifat jujur
  - D Cekap mentadbir

- 15 X dalam rajah berikut ialah jawatan dalam sistem pentadbiran Kesultanan Melayu Melaka.  
Apakah jawatan tersebut?



- A Temenggung
  - B Syahbandar
  - C Laksamana
  - D Bendahara
- 16 Jadual berikut menerangkan perubahan motif dalam seni ukiran orang Melayu selepas kedatangan Islam.  
Apakah X?

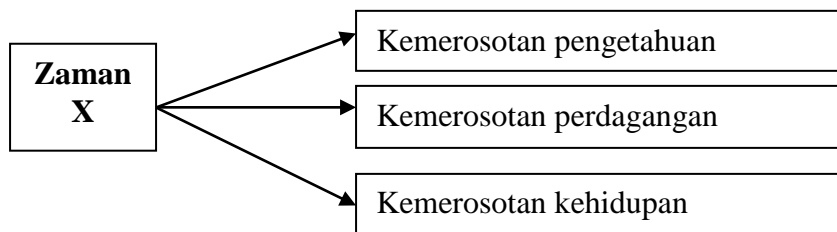
Motif Seni Ukiran Orang Melayu	
Sebelum Islam	Selepas Islam
Binatang seperti burung dan ayam	X

- I Bangunan
  - II Cakerawala
  - III Geometri
  - IV Bunga-bunga
- A I dan II
  - B I dan IV
  - C II dan III
  - D III dan IV

17 Perjanjian Tordesillas telah ditandatangani pada tahun 1494.  
Apakah kesan perjanjian tersebut?

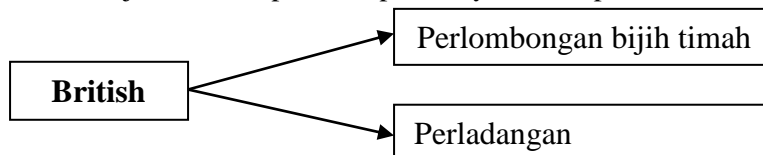
- A Kemunculan negara baru
- B Keruntuhan institusi beraja
- C Pembayaran pampasan perang
- D Pembahagian kawasan pengaruh

18 Rajah berikut menerangkan keadaan di Eropah selepas kejatuhan tamadun Rom.  
Apakah Zaman X?



- A Zaman Renaissance
- B Zaman Pertengahan
- C Zaman Peralihan
- D Zaman Gelap

19 Berdasarkan rajah di atas, apakah implikasinya terhadap ekonomi Tanah Melayu?



- I Kewujudan sistem dwiekonomi
- II Kehadiran buruh Cina
- III Pembangunan seluruh Tanah Melayu
- IV Peningkatan pendapatan orang Melayu

- A I dan II
- B I dan IV
- C II dan III
- D III dan IV

- 20 Berpandukan jadual di atas, mengapakah nilai eksport getah Tanah Melayu mengalami kemerosotan sekitar tahun 1931-1932?

Tahun	Nilai ( Dalam Pound Sterling )
1930	28 208 000
1931	13 806 000
1932	9 077 000

- A Kekurangan buruh di ladang  
 B Persaingan dengan pemodal asing  
 C Wabak penyakit melanda tanaman  
 D Zaman kemelesetan ekonomi dunia
- 21 Dialog di atas mungkin berlaku di Eropah pada abad ke-17.  
 Apakah tindakan yang diambil oleh tokoh A?

<p>Tokoh A : Hasil keluaran kilang kita semakin meningkat          Tokoh B : Tapi, kita tidak dapat menjual kesemuanya dalam negara          Tokoh C : Apakah tindakan kita, tuan ?</p>
---

- 22 Apakah tuntutan gerakan nasionalisme tahap awal di Filipina?
- A Hak mengundi  
 B Hak kebebasan bersuara  
 C Pengembalian kuasa raja  
 D Pemerintahan kerajaan sendiri

- 23 Peristiwa berikut berlaku di negeri Perak.  
Apakah kesan peristiwa tersebut?

Tarikh	Peristiwa
21 Julai 1875	Mesyuarat antara Dato Maharaja Lela dengan pembesar-pembesar Melayu di Durian Sebatang

- A** Pengurangan kuasa sultan  
**B** Pemecatan sultan Ismail  
**C** Pembunuhan J.W.W.Birch  
**D** Pemansuhan jawatan Residen
- 24 Haji Abdul Rahman Limbong telah memimpin penduduk tempatan Kuala Telemong, Terengganu menentang British.  
Mengapakah penentangan itu dilakukan?
- A** Pengenalan pendidikan sekular  
**B** Pengenalan peraturan tanah  
**C** Perlucutan jawatan pembesar  
**D** Pembunuhan penduduk tempatan
- 25 Senarai di atas menunjukkan peperangan yang melibatkan negara Jerman  
Mengapakah peperangan tersebut berlaku?

- |  |
|--|
| <ul style="list-style-type: none"> <li>• Peperangan dengan Denmark-1884</li> <li>• Peperangan dengan Austria-1866</li> <li>• Peperangan dengan Perancis- 1870</li> </ul> |
|--|

- A** Serangan balas  
**B** Penyatuan negara  
**C** Penguasaan ekonomi  
**D** Kediktatoran pemerintah
- 26 Antara berikut, yang manakah ciri kenegaraan dalam Kesultanan Melayu Melaka?
- I** Rakyat  
**II** Kerajaan  
**III** Pembesar  
**IV** Sistem Adat Papatih
- A** I dan II  
**B** I dan IV  
**C** II dan III  
**D** III dan IV



27 Apakah kesan peristiwa berikut terhadap orang Melayu?

Tahun	Peristiwa
1946	Pengenalan Malayan Union

- A Perpaduan kukuh
- B Ekonomi meningkat
- C Budaya berkembang
- D Kuasa sultan bertambah

28 Rajah di atas menunjukkan perubahan pentadbiran British di Tanah Melayu. Apakah tujuan British melakukan perubahan di atas?

Sebelum Perang Dunia Kedua	Selepas Perang Dunia Kedua
<ul style="list-style-type: none"> <li>• Negeri-Negeri Selat</li> <li>• Negeri-Negeri Melayu Bersekutu</li> <li>• Negeri-Negeri Melayu Tidak Bersekutu</li> </ul>	Malayan Union

- A Melicinkan pentadbiran
- B Memajukan pendidikan penduduk tempatan
- C Menghapuskan sempadan negeri
- D Menghapuskan pengaruh komunis

29 Apakah kepentingan pembentukan sistem di atas?

Sistem Ahli- Januari 1951 hingga Jun 1955
---

- I Melatih berkerajaan sendiri
- II Memulakan proses perpaduan
- III Memperoleh kerakyatan yang sama
- IV Mengadakan pilihanraya

- A I dan II
- B I dan IV
- C II dan III
- D III dan IV

- 30 Suruhanjaya Reid dibentuk di Tanah Melayu pada tahun 1956 sebagai persediaan kemerdekaan. Apakah tugas suruhanjaya tersebut?
- A Menganjurkan rundingan antara kaum
  - B Melantik pegawai pentadbiran baru
  - C Mencadangkan tarikh pilihan raya
  - D Merangka perlembagaan
- 31 Kemenangan Barisan Sosialis dalam pilihan raya Hong Lim pada bulan April 1961 membimbangkan kerajaan Singapura pimpinan Lee Kuan Yew. Mengapakah kerajaan Singapura bimbang dengan kemenangan itu?
- A Melambatkan penyertaan dalam Malaysia
  - B Memecahbelahkan perpaduan rakyat
  - C Menggugat rancangan kemerdekaan
  - D Mengukuhkan kedudukan British

- 32 Apakah persamaan perjuangan parti politik di atas?

Tahun	Parti
1961	Parti Perikatan Sabah
1962	Parti Perikatan Sarawak

- A Menyekat pengaruh komunis
  - B Mengembalikan kuasa rakyat
  - C Menuntut kemerdekaan negeri
  - D Menyokong gagasan Malaysia
- 33 Jika seseorang berminat untuk bertanding dalam pilihan raya di atas, apakah syarat-syarat yang perlu dipenuhi?

PUTRAJAYA- Suruhanjaya Pilihan Raya (SPR ) menetapkan Selasa,16 Januari 2007 sebagai tarikh penamaan calon bagi pilihan raya kecil Dewan Undangan Negeri (DUN ) Batu Talam,Raub,Pahang, manakala pengundian pada Ahad,28 Januari 2007.

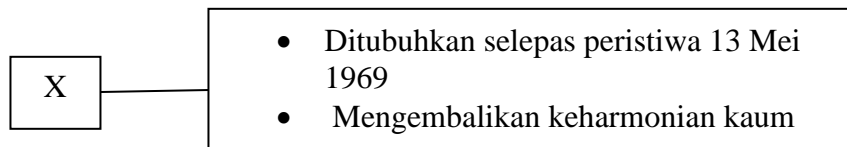
- I Tidak bermastautin di Malaysia
  - II Melepaskan jawatan dalam kerajaan
  - III Menjadi ahli dalam sebuah parti politik
  - IV Berumur tidak kurang daripada 21 tahun
- A I dan II
  - B I dan IV
  - C II dan III
  - D III dan IV

34 Perlembagaan Malaysia menetapkan bidang kuasa Yang di-Pertuan Agong. Antara yang berikut, yang manakah bidang kuasa baginda?

- I** Membubarkan Parlimen
- II** Mengisytiharkan darurat
- III** Mengetuai Kerajaan Persekutuan
- IV** Mempengerusikan perkhidmatan awam

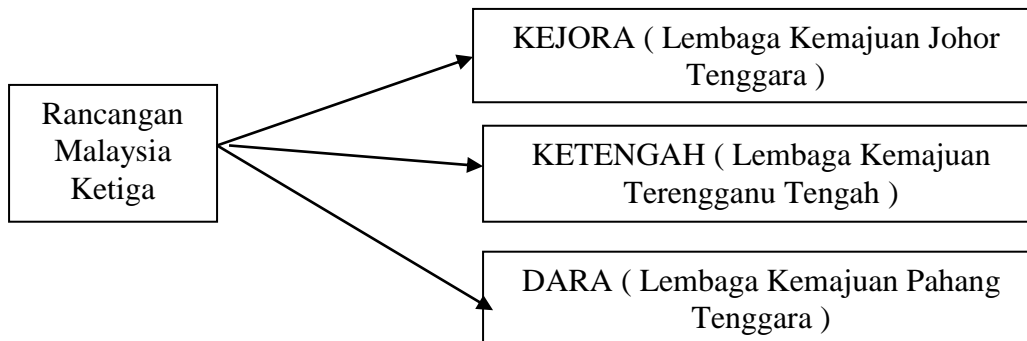
- A** I dan II
- B** II dan III
- C** III dan IV
- D** I dan IV

35 X dalam rajah berikut merujuk kepada



- A** Jawatankuasa Kabinet
- B** Majlis Gerakan Negara
- C** Majlis Angkatan Tentera
- D** Jawatankuasa Antara Kerajaan

36 Apakah tanaman komersil yang diusahakan oleh agensi berikut?



- A** Nanas dan kopi
- B** Kelapa dan koko
- C** Tembakau dan teh
- D** Getah dan kelapa sawit

- 37 Pernyataan berikut merujuk kepada cabaran keempat Wawasan 2020. Apakah yang dapat merealisasikan cabaran tersebut?

Mewujudkan masyarakat bermoral dan beretika

- I** Kecemerlangan budaya
- II** Kemampuan para pemimpin
- III** Keunggulan institusi keluarga
- IV** Berfikiran terbuka

- A** I dan II
- B** I dan IV
- C** II dan III
- D** III dan IV

- 38 Bagaimanakah Perang Dunia Kedua ( 1930 – 1945 ) bermula di Eropah?

- A** Rusia memasuki Berlin
- B** Jerman menyerang Poland
- C** Itali mencero boh Perancis
- D** Austria mengancam Serbia

- 39 Peristiwa berikut berlaku semasa Perang Dunia Kedua.

Tarikh	Peristiwa
6 dan 8 Ogos 1945	Pengeboman Hiroshima dan Nagasaki

Mengapakah Amerika Syarikat mengambil tindakan demikian?

- A** Menguji kekuatan senjata
- B** Mengingkari Perjanjian Versailles
- C** Mengelakkan perang berpanjangan
- D** Mengatasi masalah kemelesetan ekonomi

- 40 Kedua-dua pertubuhan berikut mempunyai matlamat yang sama iaitu

- Persatuan Negara- Negara Asia Tenggara ( ASA ) – 1961
- Persatuan Negara- Negara Asia Tenggara ( ASEAN ) -

- A** menyelaraskan sistem pentadbiran
- B** mengadakan pakatan ketenteraan
- C** mewujudkan kebudayaan serantau
- D** menjalin kerjasama dalam pelbagai bidang

