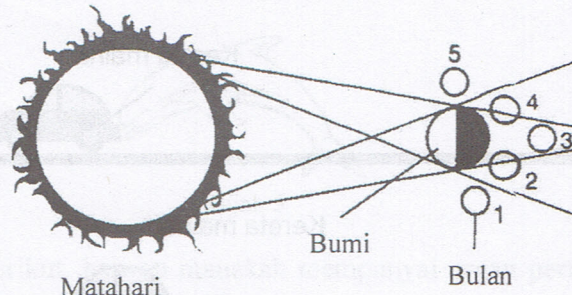



38 Rajah 32 menunjukkan fenomena Gerhana Bulan

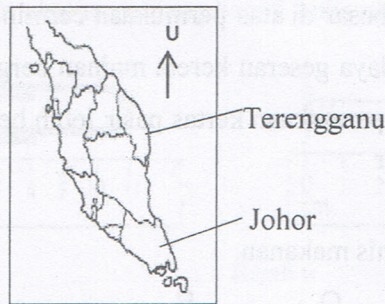


Rajah 32

Antara berikut, yang manakah menunjukkan bentuk bulan pada kedudukan nombor 3?



39 Rajah 33 menunjukkan peta semenanjung Malaysia.



Rajah 33

Jika seorang pelayar berlayar dari Terengganu ke Johor, buruj manakah yang boleh membantunya ke arah yang betul?

