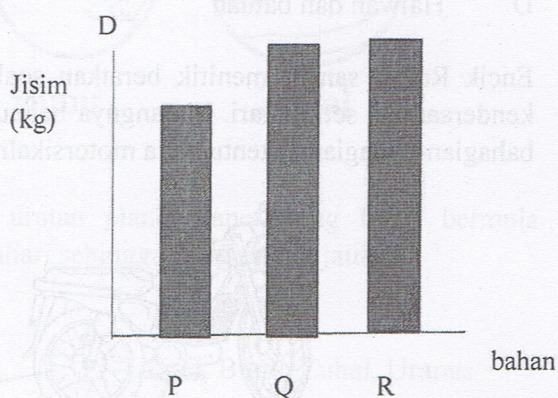
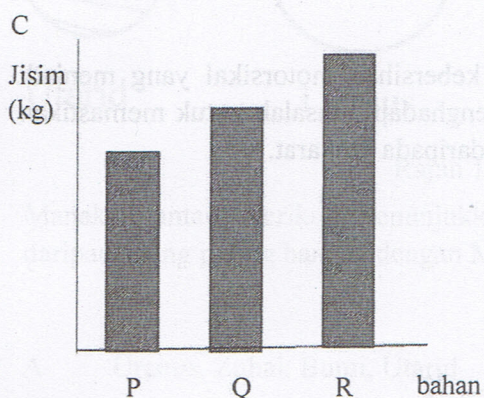
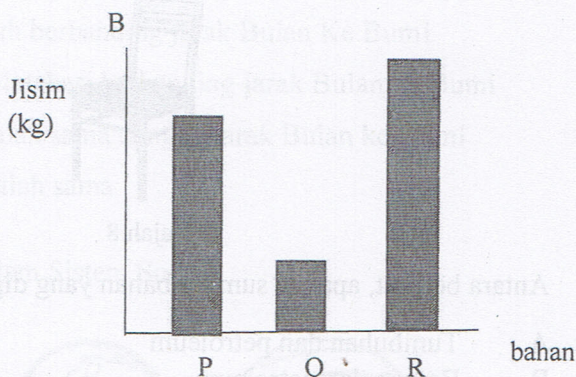
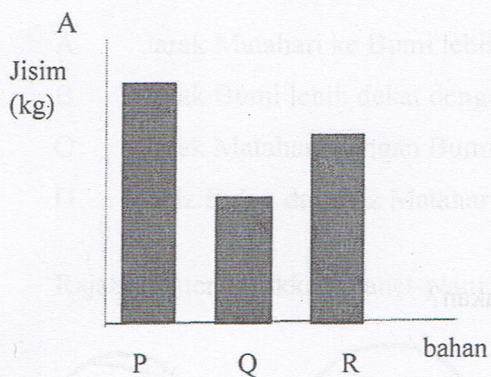





Antara berikut, carta palang yang manakah yang betul mengikut jisimnya.



- 11 Sekumpulan murid membuat penyiasatan bagi mengetahui masa yang diambil oleh kereta mainan untuk menamatkan pelumbaan dalam jarak 5 meter. 3 buah kereta mainan yang sama jenis digunakan dalam penyiasatan tersebut.



Antara berikut, manakah alatan yang paling sesuai digunakan dalam penyiasatan di atas?

- A Pembaris meter, kompas
- B Jam randik, pembaris meter
- C Jam dinding, pembaris meter
- D Pembaris meter, jam matahari